

ЦЕНТРАЛЬНОЕ БЮДЖЕТНОЕ ОБЩЕОБРАЗОВАТЕЛЬНОЕ
УЧРЕЖДЕНИЕ ЛИЦЕЙ № 101 Г. МИНЕРАЛЬНЫЕ ВОДЫ
ИНН 2630027809 ОГРН 1022601493069
357203, Россия, Ставропольский край,
г. Минеральные Воды, ул. Ленина, 38

И.Б. - 68

Олимпиадная работа по истории
ученика 5 А класса МБОУ лицей
№ 101 Дв
Дьяченко Тедя.

к. 5 - 2 СР

ВСЕРОССИЙСКАЯ ОЛИМПИАДА ШКОЛЬНИКОВ ПО ИСТОРИИ. 2018 – 2019 УЧЕБНЫЙ ГОД
ШКОЛЬНЫЙ ЭТАП 5 КЛАСС

Продолжение. См. задание 1А

| | | | | | | | | |
|----------------------|---|----|----|----|----|----|----|-------|
| № задания | 1 | 2 | 3 | 4 | 5 | 6 | 7 | Всего |
| Баллы | 8 | 10 | 20 | 12 | 12 | 23 | 15 | 100 |
| Набранные участником | 4 | 10 | 10 | 12 | 12 | 3 | 15 | 66 |

*Итого: 66
Бонусы В.Д.
СР
Продолжение
СР*

1. Выберите правильный ответ. Ответ внесите в таблицу.

1.1. Укажите науку, которая собирает сведения о происхождении, преемстве и родстве семей и родов.

- 1) нумизматика ② генеалогия
- 3) палеография 4) этнография

1.2. Первый череп синантропа был обнаружен в 1927 году недалеко от

- 1) Пекина 2) Парижа
- 3) Лондона ④ Мадрида

1.3. Из приведённого списка орудий труда выберите наиболее древнее.

- 1) скребок ② плуг
- 3) ткацкий станок 4) прялка

1.4. Укажите, когда, согласно исследованиям учёных, появился человек современного вида.

- 1) 400 тысяч лет назад
- ② 40 тысяч лет назад
- 3) 200–150 тысяч лет назад
- 4) 100 тысяч лет назад

Ответы:

| | | | |
|-----|-----|-----|-----|
| 1.1 | 1.2 | 1.3 | 1.4 |
| 2 | 4 | 2 | 2 |

Всего за задание 8 баллов

2. По какому принципу образованы ряды? Напишите максимально точный ответ.

2.1. Собирательство, охота, рыболовство.

2.2. Шумер, Вавилония, Ассирия.

Ответ:

Здесь всё расположено в порядке возрастания.

Всего за задание 10 баллов

3. Дайте краткое обоснование ряда (что объединяет перечисленные элементы с исторической точки зрения) и укажите, какой из элементов является лишним по данному основанию.

3.1. Ахетатон, Мемфис, Ур, Фивы.

3.2. Саркофаг, ~~учебник~~, мумификация, шадуф, бальзамирование.

Ответ:

Это всё о Египте.

Всего за задание 20 баллов

4. Расположите события в хронологической последовательности. Ответ внесите в таблицу в виде последовательности букв.

- А) возникновение первых городов-государств
- Б) победа Южного Египта над Северным
- В) начало бронзового века Г) появление человека современного вида
- Д) возникновение земледелия

Ответ:

| | | | | |
|----------|----------|----------|----------|----------|
| <i>Г</i> | <i>Д</i> | <i>А</i> | <i>Б</i> | <i>В</i> |
|----------|----------|----------|----------|----------|

Два верных ответа – 6 балла, все верные – 12 баллов

5. Верны ли следующие утверждения («да» – «нет»)? Ответы внесите в таблицу.

- 5.1. Первым металлом, который освоил человек, стало железо.
- 5.2. Древнейшие люди охотились поодиночке, а не коллективно.
- 5.3. Пещерная живопись возникла в каменном веке.
- 5.4. Родовые общины со временем стали объединяться в племена.

| 5.1 | 5.2 | 5.3 | 5.4 |
|------------|------------|-----------|-----------|
| <i>Нет</i> | <i>Нет</i> | <i>Да</i> | <i>Да</i> |

Всего за задание 12 баллов

6. Прочитайте текст и ответьте на вопросы (Максимум за все правильные ответы 23 балла).

6.1. Свою жизнь Жан Франсуа Шампольон посвятил дешифровке египетской письменности. Дешифровку он начал, изучая надписи на камне, который был обнаружен во время Египетской экспедиции Наполеона. Какое название в науке получил этот камень? Ответ:

Плита из камня.

Ответ 3 балла

6.2. Из предложенных изображений выберите изображение камня, о котором идёт речь в задании 6.1, и запишите цифру, которой он обозначен.




Ответ 3 балла

6.3. В 1822 году Шампольон воспользовался тем, что надписи на камне были сделаны на трёх языках, один из которых был хорошо известен учёным XIX века. Прежде всего, он расшифровал царские имена, которые были выделены специальным символом. Надпись на каком из трёх языков, хорошо известном учёным того времени, помогла в расшифровке древнеегипетских иероглифов? Как называется особый символ, которым египтяне выделяли имя фараона? Какие два имени были выделены на камне, который изучал Шампольон?

Ответ:

1.

Ответ 12 баллов



6.4. При помощи иероглифов, составляющих не менее 700 знаков, египтяне изображали предметы, глаголы, отвлечённые понятия. Как называется древнейший вид письма, который предшествовал созданию иероглифов? Какой другой вид письма был изобретён в Месопотамии?

Ответ:

Пиктограмм.

ВСЕРОССИЙСКАЯ ОЛИМПИАДА ШКОЛЬНИКОВ ПО ИСТОРИИ. 2018 – 2019 УЧЕБНЫЙ ГОД
ШКОЛЬНЫЙ ЭТАП 5 КЛАСС

Ответ 5 баллов

7. Впиши в таблицу века, содержащие указанные годы (по 3 балла за правильный ответ, всего 15 баллов).

| X век | XIII век | XIV XV век | XIX век | XX век |
|--------|----------|--------------------------|---------|---------|
| 988 г. | 1240 г. | 1612 г. | 1861 г. | 1945 г. |