

СПЕЦИАЛЬНОЕ БЮДЖЕТНОЕ ОБРАЗОВАТЕЛЬНОЕ  
УЧРЕЖДЕНИЕ ЛИЦЕЙ № 104 ГО. МИНЕРАЛЬНЫЕ ВОДЫ  
ИНН 2630027800 ОГРН 1022607463260  
357203, Россия, Ставропольский край,  
г. Минеральные Воды, ул. Ленина, 36

И5-17

Олимпиадная работа  
школьного этапа всероссийской олимпиады школьников  
по Истории

МБОУ обучающегося 5В класса  
лицей №104  
наименование образовательного учреждения

г. Минеральные Воды  
Новиковой Владиславы Григорьевны  
ФИО участника

Педагог-наставник: Кобзарева Е  
А.

1 октября 2019 г.

# ВСЕРОССИЙСКАЯ ОЛИМПИАДА ШКОЛЬНИКОВ ПО ИСТОРИИ.

## ШКОЛЬНЫЙ ЭТАП. 5 КЛАСС.

2019-2020 УЧЕБНЫЙ ГОД

15-17

ВРЕМЯ ВЫПОЛНЕНИЯ – 45 МИНУТ

ОБЩЕЕ КОЛИЧЕСТВО БАЛЛОВ – 100

№ задания	1	2	3	4	5	Всего
Макс. баллы	10	35	10	30	15	100
По итогам проверки	9	22	10	15	6	62

**Задание 1. Выполните задания (максимальное количество баллов – 10)**

**1.1. Расставьте даты в хронологической последовательности. (5 баллов за полностью правильный ответ) 1) 1941 год, 2) I век до н.э., 3) XV век, 4) 2000 г.**

2	3	1	4
---	---	---	---

**1.2. Выполните тест, выбрав правильный вариант ответа (за каждый правильный ответ 1 балл; всего 5 баллов).**

1. «Человек умелый» назван так потому, что он умел...

- 1) ходить на двух ногах
- 2) громко кричать
- 3) лазать по деревьям
- 4) изготавливать орудия труда

2. Представители известных, знаменитых семей назывались:

- 1) знатными 2) ремесленниками 3) общинниками 4) родичами

3. Наука об измерении времени и различных календарных системах называется...

- 1) история 2) нумизматика 3) хронология 4) археология

4. За разливами какой реки вели наблюдение древние египтяне?

- 1) Нил 2) Евфрат 3) Тигр 4) Хуанхэ

5. Первой столицей объединенного Египта был город:

- 1) Каир 2) Александрия 3) Мемфис 4) Фивы

1	2	3	4	5
4	1	3	1	1

**Задание 2. Выполните задания (максимальное количество баллов – 35)**

**2.1. По какому принципу образованы ряды? Дайте правильный ответ (5 баллов за каждый правильный ответ. Всего 20 баллов).**

1. Король, Царь, Фараон, Президент.

Управляющие страной 5

2. Дмитрий Донской, Александре Невский, А. Суворов, Г. Жуков.

Герои нашей родины 5

3. Первобытность, древний мир, средние века, новое время.

Хронологический порядок 5

4. Человеческое стадо, род, племя.

Эволюция человечества. 0

**2.2. Что или кто является лишним в ряду? Определите лишнее слово и обоснуйте свой ответ (5 баллов: 2 б. - слово, 3 б. – обоснование; всего 15 баллов).**

1. Ткачество, гончарное дело, скотоводство, обработка металлов.

Ткачество появилось позже. 0

2. Бастет, Тот, Анубис, Сет, Зевс.

Все остальные боги Египта. 5

3. Канал, шадуф, иероглиф, колодец.

Иероглиф ведь это буква. 2

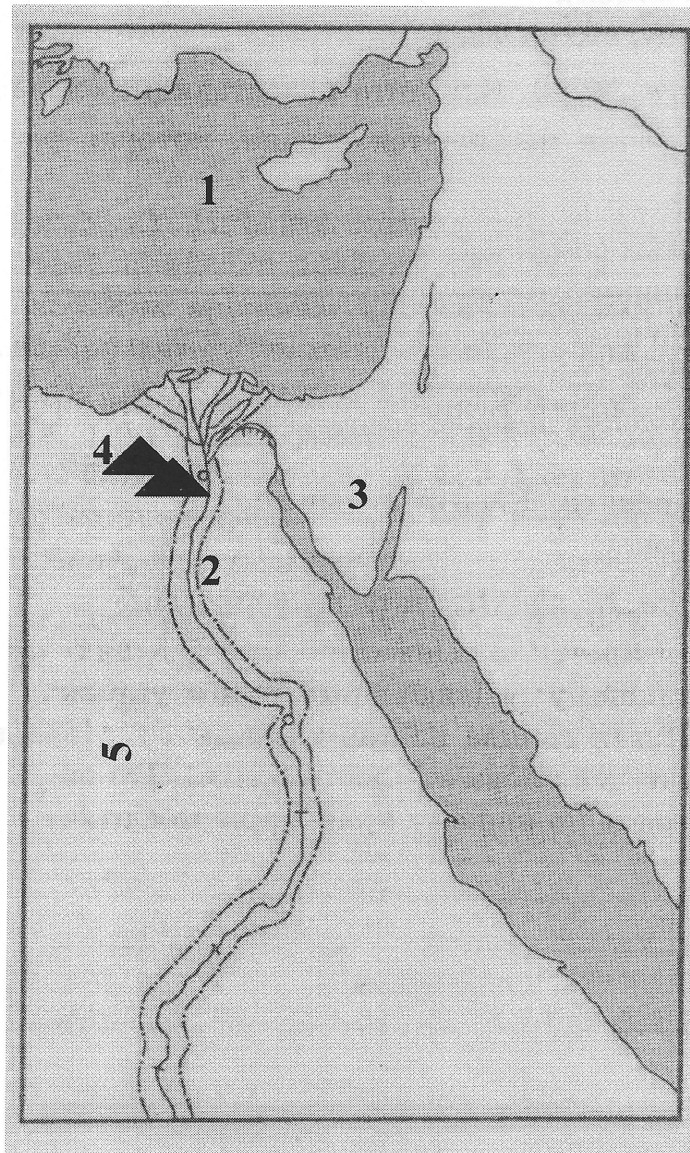
**Задание 3. Установите даты и события (2 балла за каждый правильный ответ; всего 10 баллов).**

1	988	→	А) Начало Великой Отечественной войны
2	1380	→	Б) Полёт первого человека в космос
3	1941	→	В) Крещение Руси
4	1945	→	Г) Победа СССР в Великой Отечественной войне
5	1961	→	Д) Куликовская битва

1	2	3	4	5
В	А	А	Г	Б

10

**Задание 4. Выполните задания по карте. За каждый правильный ответ 3 балла. Всего 30 баллов.**



1. Как называется море, обозначенное на карте цифрой 1? 0

2. Как называется река, обозначенная на карте цифрой 2? Нил 3

3. Покажи стрелочкой направление течения реки. 0

4. Как называется полуостров, обозначенный на карте цифрой 3? 0

5. Как называлось государство, возникшее в древности на берегах этой реки? Египет 30

6. Какое слово относится к этому государству: 1) клинопись, 2) иероглиф, 3) алфавит 2 3

7. Объясни значение этого слова Иероглиф - это буква древнего Египта 3

8. Объясни значение условного знака, обозначенного на карте цифрой 4. 0





9. Какое занятие было основным у жителей этого государства? 3

10. Напиши название материка, обозначенного на карте цифрой 5? 0



Задание 5. Кто изображён на портретах? Подпишите имя (1 балл), фамилию (1 балл) и род деятельности (1 балл) этих людей.

25-17

1.	2.	3.	4.
			
А.С. Пушкин 1	М.Ю. Лермонтов 1	Ю.А. Гагарин 1	М.И. Кутузов 1

Кто из них связан с нашим регионом (1 балл)? Назовите два исторических места (памятника) в нашем регионе, имеющих отношение к этому человеку (2 балла).

Всего 15 баллов

№ портрета	Исторические места (памятники)
№ 1	Улица Пушкина, сквер Пушкина
№ 2	Улица Лермонтова

Преселатень моря Дегрина А.Р. Жу  
 Член моря Тонгарева В.Д. Жу  
 Кожарева Е.В. Жу