

ЦИПИАЛЬНОЕ БЮДЖЕТНОЕ ОБРАЗОВАТЕЛЬНОЕ
УЧРЕЖДЕНИЕ ЛИЦЕЙ №104 Г.МИНЕРАЛЬНЫЕ ВОДЫ
ИНН 2030027009 ОГРН 1022607463360
257293, Россия, Ставропольский край,
г. Минеральные Воды, ул. Ленина, 30

И 5-19

Олимпиадная работа
школьного этапа всероссийской олимпиады школьников

по истории
обучающегося 5Б класса

МБОУ лицей №104

наименование образовательного учреждения

Чернышова Степана Александровича
г. Минеральные Воды

ФИО участника

уча. Алексеева

Педагог-наставник: Кобзарева Екатерина

1 октября 2019 г.

ВСЕРОССИЙСКАЯ ОЛИМПИАДА ШКОЛЬНИКОВ ПО ИСТОРИИ.

ШКОЛЬНЫЙ ЭТАП. 5 КЛАСС.

2019-2020 УЧЕБНЫЙ ГОД

И5-18

ВРЕМЯ ВЫПОЛНЕНИЯ – 45 МИНУТ

ОБЩЕЕ КОЛИЧЕСТВО БАЛЛОВ – 100

№ задания	1	2	3	4	5	Всего
Макс. баллы	10	35	10	30	15	100
По итогам проверки	8	16	10	21	9	64

Задание 1. Выполните задания (максимальное количество баллов – 10)

1.1. Расставьте даты в хронологической последовательности. (5 баллов за полностью правильный ответ) 1) 1941 год, 2) I век до н.э., 3) XV век, 4) 2000 г.

2	3	1	4
---	---	---	---

1.2. Выполните тест, выбрав правильный вариант ответа (за каждый правильный ответ 1 балл; всего 5 баллов).

1. «Человек умелый» назван так потому, что он умел...

- 1) ходить на двух ногах
- 2) громко кричать
- 3) лазать по деревьям
- 4) изготавливать орудия труда

2. Представители известных, знаменитых семей назывались:

- 1) знатными 2) ремесленниками 3) общинниками 4) родичами

3. Наука об измерении времени и различных календарных системах называется...

- 1) история 2) нумизматика 3) хронология 4) археология

4. За разливами какой реки вели наблюдение древние египтяне?

- 1) Нил 2) Евфрат 3) Тигр 4) Хуанхэ

5. Первой столицей объединенного Египта был город:

- 1) Каир 2) Александрия 3) Мемфис 4) Фивы

1	2	3	4	5
4	1	2	3	5

Задание 2. Выполните задания (максимальное количество баллов – 35)

2.1. По какому принципу образованы ряды? Дайте правильный ответ (5 баллов за каждый правильный ответ. Всего 20 баллов).

1. Король, Царь, Фараон, Президент.

Государи

2. Дмитрий Донской, Александре Невский, А. Суворов, Г. Жуков.

Великие завоеватели

3. Первобытность, древний мир, средние века, новое время.

Времена проживания человека

4. Человеческое стадо, род, племя.

Развитие названий стовь людей

2.2. Что или кто является лишним в ряду? Определите лишнее слово и обоснуйте свой ответ (5 баллов: 2 б. - слово, 3 б. – обоснование; всего 15 баллов).

1. Ткачество, гончарное дело, скотоводство, обработка металлов.

Скотоводство - это не ручное дело

2. Бастет, Тот, Анубис, Сет, Зевс.

Зевс - это бог

2

3. Канал, шадуф, иероглиф, колодец.

иероглиф - это знак

2

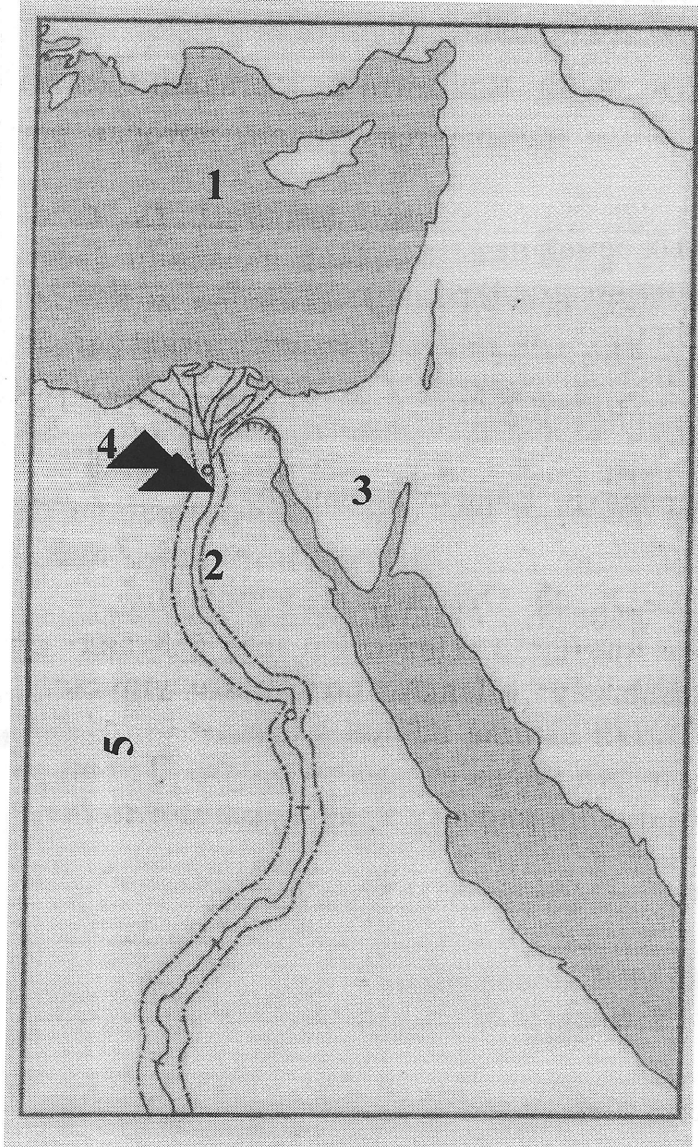
Задание 3. Установите даты и события (2 балла за каждый правильный ответ; всего 10 баллов).

1	988	А) Начало Великой Отечественной войны
2	1380	Б) Полёт первого человека в космос
3	1941	В) Крещение Руси
4	1945	Г) Победа СССР в Великой Отечественной войне
5	1961	Д) Куликовская битва

1	2	3	4	5
В	А	А	Г	Б

10

Задание 4. Выполните задания по карте. За каждый правильный ответ 3 балла. Всего 30 баллов.



1. Как называется море, обозначенное на карте цифрой 1?

Средиземное море

2. Как называется река, обозначенная на карте цифрой 2? Нил

3. Покажи стрелочкой направление течения реки.

4. Как называется полуостров, обозначенный на карте цифрой 3? Синай

5. Как называлось государство, возникшее в древности на берегах этой реки? Египет

6. Какое слово относится к этому государству: 1) клинопись, 2) иероглиф, 3) алфавит

7. Объясни значение этого слова иероглиф - это знак.

8. Объясни значение условного знака, обозначенного на карте цифрой 4.

Торная возвышенность



9. Какое занятие было основным у жителей этого государства?

Клинопись

10. Напиши название материка, обозначенного на карте цифрой 5?

Африка

Задание 5. Кто изображён на портретах? Подпишите имя (1 балл), фамилию (1 балл) и род деятельности (1 балл) этих людей.

1.	2.	3.	4.
			
Александр Сергеевич Пушкин Поэт Писатель 3	М. Ю. Лермонтов Писатель 2	Ю. А. Гагарин Первый космонавт 2	Ушаков М. И. Кутузов Воевода 1

Кто из них связан с нашим регионом (1 балл)? Назовите два исторических места (памятника) в нашем регионе, имеющих отношение к этому человеку (2 балла).

Всего 15 баллов

№ портрета	Исторические места (памятники)
1 1	

Придворный поэт Державин А. Г. П
 Офицер пограничной службы
 Козарева Е. А. П