

ФЕДЕРАЛЬНОЕ БЮДЖЕТНОЕ ОБРАЗОВАТЕЛЬНОЕ УЧРЕЖДЕНИЕ ЛИЦЕЙ № 104 ГОРОДА МИНЕРАЛЬНЫЕ ВОДЫ
ИНН 2630027809 ОГРН 1022601453060
387200, Россия, Ставропольский край,
г. Минеральные Воды, ул. Ленина, 29

И5-23

Олимпиадная работа
школьного этапа всероссийской олимпиады школьников

по истории

обучающегося 5А класса

МБОУ лицей № 104 г. Минеральные Воды

наименование образовательного учреждения

Шестаковой Зинаиды

Александровны

ФИО участника

Педагог-наставник:

Кобзарева Екатерина
Алексеевна.

1 октября 2019 г.

ВСЕРОССИЙСКАЯ ОЛИМПИАДА ШКОЛЬНИКОВ ПО ИСТОРИИ.

ШКОЛЬНЫЙ ЭТАП. 5 КЛАСС.

2019-2020 УЧЕБНЫЙ ГОД

15-23

ВРЕМЯ ВЫПОЛНЕНИЯ – 45 МИНУТ

ОБЩЕЕ КОЛИЧЕСТВО БАЛЛОВ – 100

№ задания	1	2	3	4	5	Всего
Макс. баллы	10	35	10	30	15	100
По итогам проверки	9	25	10	18	11	73

Задание 1. Выполните задания (максимальное количество баллов – 10)

1.1. Расставьте даты в хронологической последовательности. (5 баллов за полностью правильный ответ) 1) 1941 год, 2) I век до н.э., 3) XV век, 4) 2000 г.

I век до н.э.	XV век	1941 год	2000 г.
---------------	--------	----------	---------

1.2. Выполните тест, выбрав правильный вариант ответа (за каждый правильный ответ 1 балл; всего 5 баллов).

1. «Человек умелый» назван так потому, что он умел...

- 1) ходить на двух ногах
- 2) громко кричать
- 3) лазать по деревьям
- 4) изготавливать орудия труда

2. Представители известных, знаменитых семей назывались:

- ① знатными 2) ремесленниками 3) общинниками 4) родичами

3. Наука об измерении времени и различных календарных системах называется...

- 1) история 2) нумизматика ③ хронология 4) археология

4. За разливами какой реки вели наблюдение древние египтяне?

- ① Нил 2) Евфрат 3) Тигр 4) Хуанхэ

5. Первой столицей объединенного Египта был город:

- 1) Каир 2) Александрия ③ Мемфис 4) Фивы

1	2	3	4	5
	1	3	1	3

4

Задание 2. Выполните задания (максимальное количество баллов – 35)

2.1. По какому принципу образованы ряды? Дайте правильный ответ (5 баллов за каждый правильный ответ. Всего 20 баллов).

1. Король, Царь, Фараон, Президент.

Все это правители государств.

2. Дмитрий Донской, Александре Невский, А. Суворов, Г. Жуков.

Это великие полководцы.

3. Первобытность, древний мир, средние века, новое время.

Это эпохи развития человечества.

4. Человеческое стадо, род, племя.

Это названия групп, в которые люди объединялись.

2.2. Что или кто является лишним в ряду? Определите лишнее слово и обоснуйте свой ответ (5 баллов: 2 б. - слово, 3 б. – обоснование; всего 15 баллов).

1. Ткачество, гончарное дело, скотоводство, обработка металлов.

Обработка металлов. Потому люди научились позже.

2. Бастет, Тот, Анубис, Сет, Зевс.

Шот, это бог, в которого верят египтяне. 0

3. Канал, шадуф, иероглиф, колодец.

Иероглиф - это буква, остальное места для хранения воды. 5

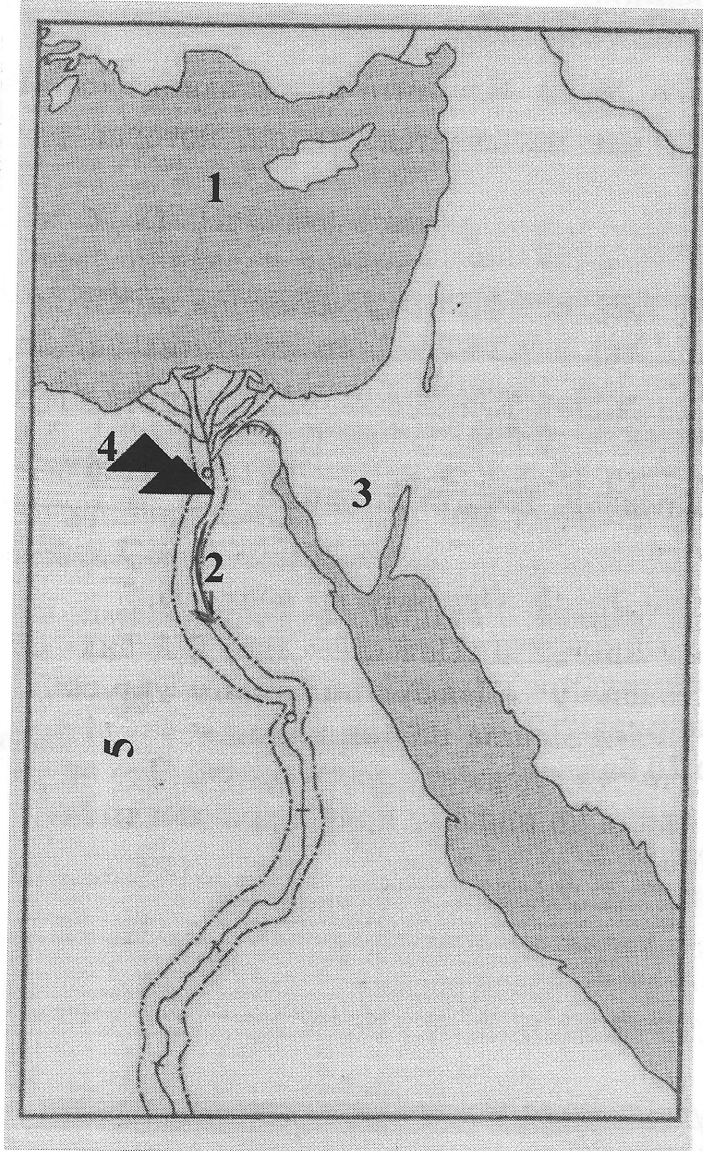
Задание 3. Установите даты и события (2 балла за каждый правильный ответ; всего 10 баллов).

1	988	А) Начало Великой Отечественной войны
2	1380	Б) Полёт первого человека в космос
3	1941	В) Крещение Руси
4	1945	Г) Победа СССР в Великой Отечественной войне
5	1961	Д) Куликовская битва

1	2	3	4	5
В	Д	А	Г	Б

10

Задание 4. Выполните задания по карте. За каждый правильный ответ 3 балла. Всего 30 баллов.



1. Как называется море, обозначенное на карте цифрой 1?

Фаренцево 0

2. Как называется река, обозначенная на карте цифрой 2? Нил 3

3. Покажи стрелочкой направление течения реки. 0

4. Как называется полуостров, обозначенный на карте цифрой 3? 0

5. Как называлось государство, возникшее в древности на берегах этой реки? Египет 3

6. Какое слово относится к этому государству: 1) клинопись, 2) иероглиф, 3) алфавит 2 3

7. Объясни значение этого слова это символ (буква) 3

8. Объясни значение условного знака, обозначенного на карте цифрой 4.

это места, где находились пирамиды 3

9. Какое занятие было основным у жителей этого государства? 0





ловля рыбы (т.к. там есть река)

10. Напиши название материка, обозначенного на карте цифрой 5? 3

Африка

Задание 5. Кто изображён на портретах? Подпишите имя (1 балл), фамилию (1 балл) и род деятельности (1 балл) этих людей.

ИС-23

1.	2.	3.	4.
			
А.С. Пушкин Поэт, писатель 2	М.Ю. Лермонтов Поэт 2	Ю.А. Гагарин Первый человек в космосе 2	Суворов Полководец 2

Кто из них связан с нашим регионом (1 балл)? Назовите два исторических места (памятника) в нашем регионе, имеющих отношение к этому человеку (2 балла).

В Кятилорке есть место дуэли Лермонтова.
Он связан с нашими регионами.

Всего 15 баллов

№ портрета	Исторические места (памятники)
1 1	Сквер Пушкина 1

Президиум истории Дирекции Л. П. Р.
Имена истории Тонгарева В. Д. Г.
Кобярева Э. А. М.