

МУНИЦИПАЛЬНОЕ БЮДЖЕТНОЕ ОБРАЗОВАТЕЛЬНОЕ
УЧРЕЖДЕНИЕ ЛИЦЕЙ №104 г. МИНЕРАЛЬНЫЕ ВОДЫ
ИНН 2030027809 ОГРН 1022001453260
357203, Россия, Ставропольский край,
г. Минеральные Воды, ул. Ланной, 35

Т6-3

Олимпиадная работа
школьного этапа всероссийской олимпиады школьников

по технологии

обучающегося 6В класса

МБОУ лицей 104

наименование образовательного учреждения

г. Минеральные Воды

Воротникова-Дорн

ФИО участника

Педагог-наставник:

Верхова Елена
Ивановна

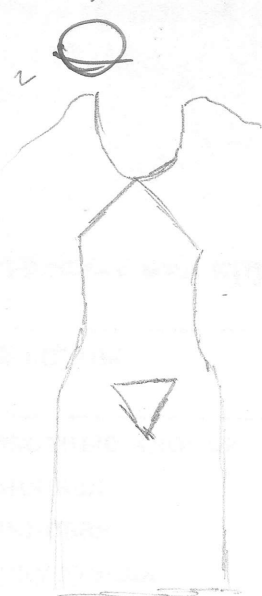
5 октября 2019 г.

- №1
 а) Ткань хлопчатобумажная.
 б) Ткань вискозная
 в) Цвета хлопчатобумажная.

№2 4
 б, в, г. №3 а-1; б-4; в-2; г-3. 4

№4 4
 Утюг. №5 А. №6 а, б, в. №7 б. №8 А. №9 б. №10 б. №11 б. №12 А-2; б-4; в-3; г-1. 4

№13 Вязание 4 №14 2



Ткань хлопчатобумажная.
 Декоративная отделка кружева.

5

14

ФЕДЕРАЛЬНАЯ ОЛИМПИАДА ШКОЛЬНИКОВ ПО ТЕХНОЛОГИИ

2019–2020 уч.г
ШКОЛЬНЫЙ ЭТАП

Номинация «Культура дома и декоративно-прикладное творчество»

Теоретический тур

6 класс

Максимальное количество баллов – 20.

76-3

1. Укажите названия групп комнатных растений по отношению к свету:

- А) Светолюбивые.
Б) Теневыносливые.
В) Тенелюбивые.

2. Отметьте название корнеплодов:

- А) огурцы
Б) редис
В) свекла
Г) баклажаны
Д) морковь

3. Соотнесите вид крупы и зерновую культуру:

Зерновая культура	Вид крупы
а) овес	1) овсяные хлопья
б) кукуруза	2) рисовая
в) рис	3) ячневая
г) ячмень	4) кукурузная

Ответ: А- , Б- , В- , Г-

4. Отгадайте загадку.

Не коток, а разглаживает, не паровоз, а пытит, трубы нет, а пар идёт.

Ответ: Утюг.

5. К гигиеническим свойствам тканей НЕ относится:

- А) теплозащитность
Б) сминаемость
В) гигроскопичность

6. Укажите все правильные ответы.

Направление нити основы можно определить

- А) по внешнему виду и яркости окраски нитей
Б) по кромке ткани
В) по звуку при резком растяжении ткани

7. Укажите правильный ответ.

Стрелка на листе выкроек означает:

- А) направление долевой нити;
- Б) направление поперечной нити.

8. Ткань, окрашенная в один цвет, называется:

- А) набивная;
- Б) пестротканая;
- В) гладкокрашенная;

9. С каким приводом скорость швейной машины будет больше?

- А) ручным;
- Б) электрическим;
- В) ножным.

10. Отметьте нитки, какого номера тоньше?

- А) №20;
- Б) №40

11. Отметьте какая машинная игла толще?

- А) № 80;
- Б) № 110;

12. Укажите название мерок для данных обозначений:

- | | |
|----------|--------------------------|
| А) Дн; | 1) полуобхват бедер; |
| Б) Дн.ч; | 2) длина нагрудника; |
| В) Дст; | 3) длина спины до талии; |
| Г) Сб; | 4) длина нижней части. |

Ответ: А - , Б - , В - , Г -

13. Расположите буквы в правильном порядке, разгадайте зашифрованное слово, получите название рукоделия: **а в я и з н е**.

Ответ: Вязание.

14. Отметьте, каким ручным швом производится операция «смётывание деталей»:

- а) швом «назад иголку»;
- б) швом «вперёд иголку»;
- в) петельным швом;
- г) тамбурным швом;

15. Творческое задание (6 баллов).

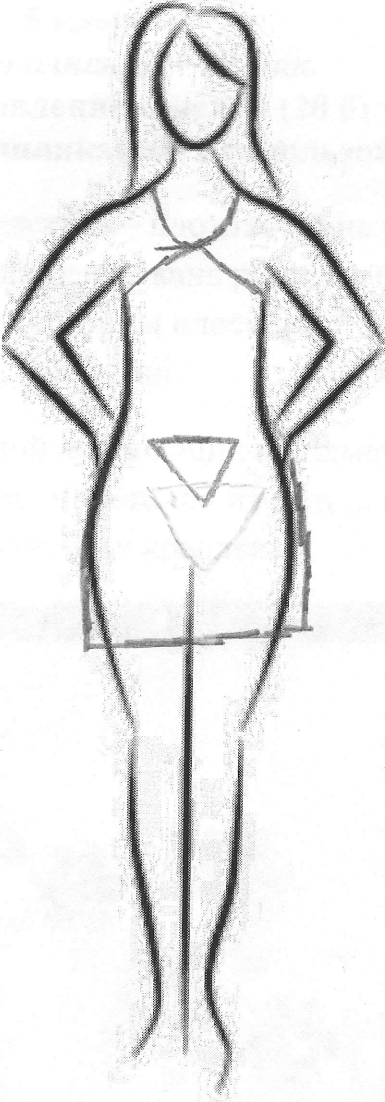
Вам предложен фартук:

1. Выполните эскиз, используя разные цвета, выбрав фартук по назначению:

- а) для официантов;
- б) для домашней кухни;
- в) для русского народного костюма;
- г) для слесарно-столярных работ

Опишите и внесите ответы в таблицу:
 Волокнистый состав ткани предложенной модели;
 Декоративную отделку предложенной модели.

T6-3

Назначение: для домашней кухни.	Эскиз 
Волокнистый состав: хлопчатобумажная.	
Декоративная отделка: Кружева.	
Оценка за творческое задание <u>5</u> баллов	

Итого общее количество баллов за теорию 14

Председатель Жюри Сенс | Величина О.О. |
 Члены Жюри Вера | Мерхоба Э.В. |
Ирина | Корган. Р.А. |

2. Моделирование (20 б.)

«Моделирование фартука»


Материалы и инструменты: цветная бумага, клей, ножницы.

Задание: наклейте на лист цветной бумаги 3 модели фартука.

Для работы используем следующую страницу задания,

- 1) Вырежьте детали фартуков
- 2) Подберите к каждой нижней части фартука карман и нагрудник, подходящие по форме.
- 3) Аккуратно наклейте детали выкройки в соответствии с подходящим фасоном.
- 4) Пронумеруйте модели.
- 5) Придумайте и нарисуйте собственную модель фартука

Вырезаем детали и находим соответствие между нижней частью фартука нагрудником и карманами



12

Карта пооперационного контроля практики

№ п/п	Критерии оценки качества работы	Баллы максим	Баллы за изделие
1. Изготовление изделий		20	10
1	Вышивка и крепление пуговиц выполнены в соответствии с предложенным образцом	3	1
2	Соблюдение длины стежков шва «вперёд иголку» (3 мм) и расстояний между ними (2 мм)	3	1
3	Качественное вырезание и крепление деталей цветочков к основной детали	3	2
4	Качество выполнения крепления пуговиц	3	1
5	Качество изнаночной стороны	3	2
6	Внешний вид (гармоничная цветовая гамма подобранных ниток, аккуратность выполненной работы)	3	1
7	Соблюдение правил безопасной работы и правильная организация рабочего места	2	2
2. Моделирование фартука		20	
9	Соответствие деталей единой композиции	5	2
10	Аккуратность вырезания	1	1
11	Аккуратность наклеивания	1	1
12	Аккуратность общего оформления задания	2	2
13	Оценка объема выполнения задания: 1, 2, 3 модели/ за каждую по 2 балла	6	6
14	Выполнение собственной разработки (рисунок модели фартука)	5	0
Итого общее количество баллов		40	10

Председатель Жюри _____

Евс

Временна А.О.

Члены Жюри _____

Сверт

Верхова Е.В.

Му

Корган. Р.А.