

МУНИЦИПАЛЬНОЕ БЮДЖЕТНОЕ ОБРАЗОВАТЕЛЬНОЕ
УЧРЕЖДЕНИЕ ЛИЦЕЙ № 104 г. МИНЕРАЛЬНЫЕ ВОДЫ
ИНН 2630027809 ОГРН 1022601493060
357203, Россия, Ставропольский край,
г. Минеральные Воды, ул. Ленина, 36

Т7-5

Олимпиадная работа
школьного этапа всероссийской олимпиады школьников

по технологии

обучающегося 7 Б класса

МБОУ лицей № 104

наименование образовательного учреждения

Жуковой Региональной гимназии

ФИО участника

Педагог-наставник:
Верхова Елена Ивановна

5 октября 2019 г.

БЮДЖЕТНОЕ ОБЩЕОБРАЗОВАТЕЛЬНОЕ
УЧРЕЖДЕНИЕ № 104 Г. МИНЕРАЛЬНЫЕ ВОДЫ
027809 ОГРН 1022601453060
Россия, Ставропольский край,
Минеральные Воды, ул. Ленина, 36

№1 - а, б, в; а - на шлоке, б - на дурьоне, 1
№2 - 1 дата изготовления, в - на воре
№3 - порёдки (тёмные)

прозрачные.

17-5

- №4 - б - дурьона 1
- №5 - в - башки 1
- №6 - в - химические 1
- №7 - 4, 2, 5 | 2 - термозащитность, 5 - вод воздухопроницаемость 1
- №8 - а, б | а - ОП; б - СГ I 1
- №9 - б - величина, прибавленная к размеру мерки на свободное обложение арматуры.
- №10 - 1 - результаты измерения фигуры 1
5 - величина прибавок к меркам.
- №11 - 1 Фл 1
- №12 - б - рядом с острием 1
- №13 - на себя 1
- №14 - в 0
- №15 - б 0

12

15

ВСЕРОССИЙСКАЯ ОЛИМПИАДА ШКОЛЬНИКОВ ПО ТЕХНОЛОГИИ

2019–2020 уч.г

ШКОЛЬНЫЙ ЭТАП

77-5

Номинация «Культура дома и декоративно-прикладное творчество»

Теоретический тур

7 класс

1. Каши можно варить:

- а) на молоке
- б) на бульоне
- в) на воде
- г) на киселе

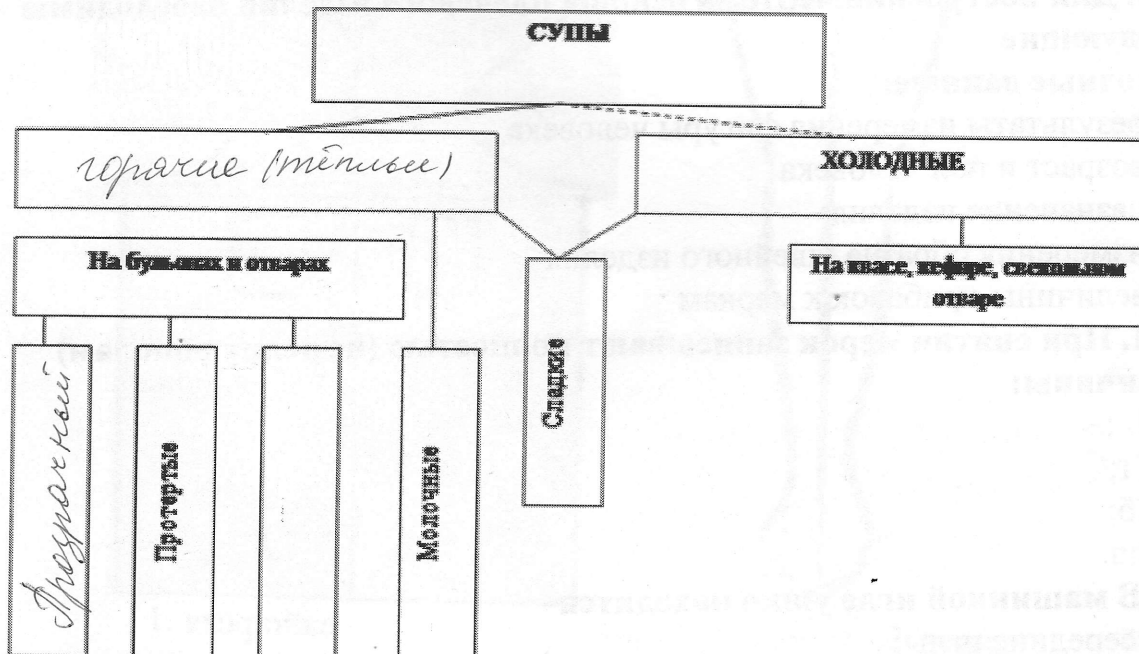
2. Определите, что означают цифры на крышке консервной банки, представленной на рисунке?



Обведите номер верного ответа.

- 1) дата изготовления консервов
- 3) срок годности консервов
- 4) срок хранения консервов

3. Допишите в схеме классификации супов пропущенные слова:



4. К столовым приборам НЕ относятся:

Обведите номер верного ответа.

- а) ложка;
- б) дуршлаг;
- в) вилка.

5. К изделиям из жидкого теста относятся:

- а) вареники
- б) пряники
- в) блины

6. Все текстильные волокна делятся на натуральные и:

- а) растительные
- б) минеральные
- в) химические
- г) синтетические

7. К гигиеническим свойствам тканей относятся:

- 1. гигроскопичность
- 2. теплозащитность
- 3. износостойкость
- 4. осыпаемость
- 5. воздухопроницаемость

8. Для построения чертежа ночной сорочки необходимы следующие мерки:

- а) обхват плеча Оп;
- б) полуобхват груди Сг I
- в) полуобхват талии Ст
- г) полуобхват бедер Сб

9. Отметьте правильный ответ.

Прибавка – это:

- а) величина, необходимая при обработке изделия машинными швами, выраженная в сантиметрах и учитываемая при раскрое.
- б) величина, прибавляемая к размеру мерки на свободное облегание одежды.

10. Для построения чертежа основы плечевого изделия необходимы следующие

исходные данные:

- 1. результаты измерения фигуры человека
- 2. возраст и пол человека
- 3. назначение изделия
- 4. измерения образца швейного изделия
- 5. величины прибавок к меркам

11. При снятии мерок записывают полностью (не делят пополам)

величины:

- а. Ди;
- б. Ст;
- в. Сб;
- г. Сш.

12. В машинной игле ушко находится

- а. в середине иглы;
- б) рядом с остриём;
- в. там же, где у иглы для ручного шитья.

13. Закончите фразу:

В бытовой швейной машине маховое колесо следует вращать *на себя*

14. Отметьте, каким ручным швом производится операция «смётывание деталей»:

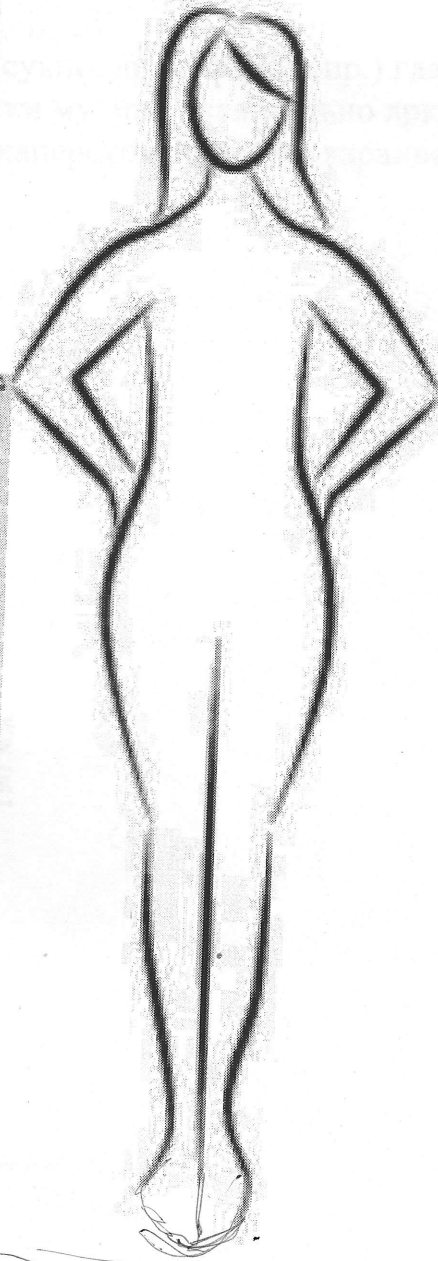
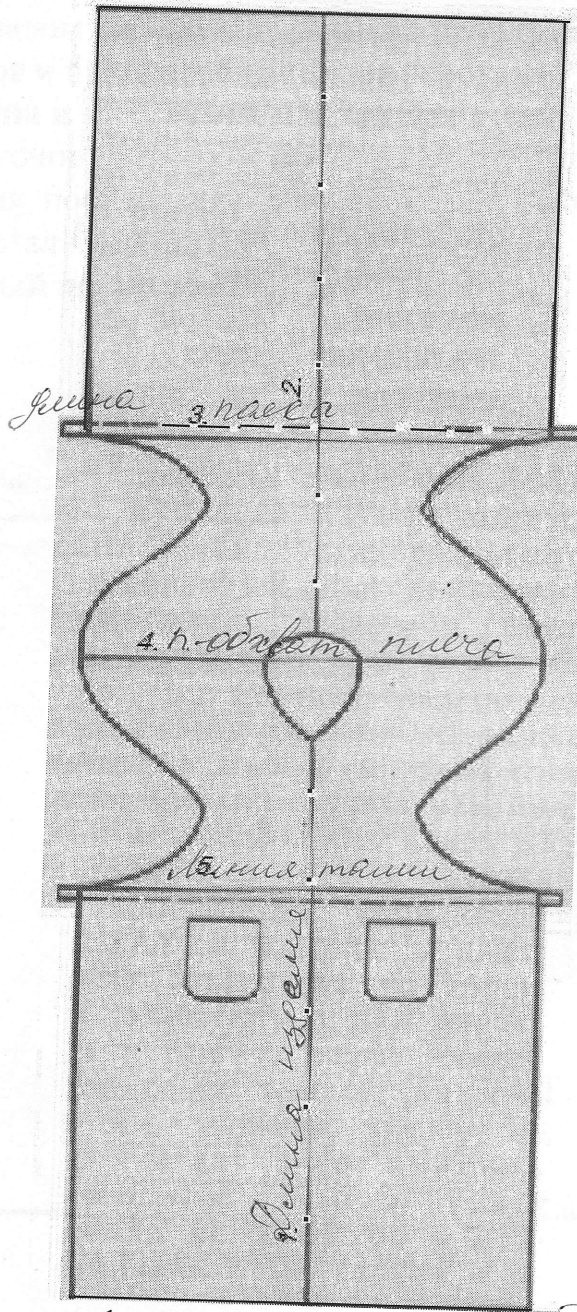
- а) швом «назад иголку»;
- б) швом «вперёд иголку»;
- в) петельным швом;
- г) тамбурным швом.

77-5

15. Творческое задание (6 баллов).

Вам предложены выкройка изделия и образцы ткани.

1. Подпишите отмеченные линии на чертеже (1,2,3,4,5);
2. Выполните эскиз изделия, согласно выкройке;
3. Подберите вид ткани для своей модели, подпишите название ткани или ее состав.



3

1. выкройка

2. эскиз

Название ткани или рекомендуемый волокнистый состав ткани к.д.

Итого общее количество баллов за теорию 15

Председатель Жюри _____


Члены Жюри _____

_____ | Владимирова А.А.
 _____ | Верхова Э.И.
 _____ | Черная В.А.

Контроль практического задания по моделированию

Выполняй задание здесь!

Свои действия по моделированию участники олимпиады на листе «Контроль практического задания» могут оформить списком, алгоритмом или знаками со стрелками и словами, и т.д.



Карта операционного контроля практической работы

57-5

№	Критерии оценки качества работы	Баллы максим	Баллы за изделие
1. Изготовление изделий			
1	Правильная организация рабочего места	20	20
2	Обмеловка и раскрой произведены точно по выкройке	1	1
3	Детали совмещены ровно по контуру без перекосов.	1	1
4	Петельные стежки проложены ровно. Длина и ширина стежка равномерна по всему контуру сапожка. Отклонения составляют не более 1мм.	2	2
5	Строчка не затянута	3	3
6	Начало и конец строчки закреплены	2	2
7	Оригинальность оформления сапожка: - Выполнена опушка по верхнему срезу - Выполнена заплатка на пятке сапожка - Выполнена заплатка на носке сапожка - Выполнена вышивка бисером - Выполнена вышивка лентами - Выполнена аппликация из разноцветных лоскутков - Сделана петля для подвешивания сапожка - Другие варианты	2	2
8	Соблюдение правил техники безопасности	8	8
2. Моделирование фартука			
	Нанесение новых линий фасона и надписей на чертеже основы фартука	1	1
		20	5
1	Оформление складок		
2	Построение деталей нагрудника	2	0
3	Построение планки	2	1
4	Построение бретелей	2	1
5	Построение пояса	1	0
	Подготовка выкроек фартука к раскрою	1	1
6	Выполнение полного комплекта деталей, соответствие их форме		
		2	0
7	Название деталей		
		1	0
8	Количество деталей		
		1	0
9	Направление долевой нити на деталях		
		1	0
10	Сгибы тканей, линии середины деталей		
		1	0
11	Припуски на обработку каждого среза		
		1	0
12	Наличие метки под складки и места притачивания		
		1	0

	бретели		
13	Нанесение линий для прокладывания отделочных строчек по средней части нагрудника	1	0
14	Аккуратность выполнения моделирования	2	2
	Итого общее количество баллов	40	25

Председатель Жюри _____

Члены Жюри _____

Брешт | *Брешт С.О.*
Сере | *Верхова Е.М.*
Мур | *Корган Р.А.*