

05-12

МИНИСТЕРСТВО ОБРАЗОВАНИЯ И НАУКИ
УЧРЕЖДЕНИЕ ЛИЦЕЙ № 104 ГО. МИНЕРАЛЬНЫЕ ВОДЫ
ИНН 2030027808 ОГРН 1022001423080
397203, Россия, Ставропольский край,
г. Минеральные Воды, ул. Ленина, 33

Олимпиадная работа
ШКОЛЬНОГО ЭТАПА ВСЕРОССИЙСКОЙ ОЛИМПИАДЫ ШКОЛЬНИКОВ

по обществознанию
обучающегося 5,4 класса

МБОУ школа № 104

наименование образовательного учреждения

г. Минеральные Воды,
Жосуповой Зелины Юрьевны

ФИО участника

Педагог-наставник:

Кабзарева Екатерина Алексеевна

8 октября 2019 г.

05-12

ВСЕРОССИЙСКАЯ ОЛИМПИАДА ШКОЛЬНИКОВ
ПО ОБЩЕСТВОЗНАНИЮ 2019 – 2020 УЧЕБНЫЙ ГОД.
ШКОЛЬНЫЙ ЭТАП. 5 КЛАСС

Задание 1. Выполните задания

1.1. Выберите несколько верных ответов. Ответы занесите в таблицу.
(Максимум за задание 12 баллов: 4 балла за полностью верный ответ; 3 балла за ответ с одной ошибкой(не указан один из верных ответов или наряду с указанными всеми верными ответами приводится один неверный, 2 балла за две ошибки).

1. Выберите в приведенном списке отличительные особенности человека от животного и запишите в качестве ответа **цифры**, под которыми они указаны:

- 1) способность защищаться;
- 2) владение речью;
- 3) способность добывать пищу;
- 4) прямохождение;
- 5) умение производить орудия труда

2. Выберите в приведенном списке компоненты, характеризующие творческую деятельность, и запишите в качестве ответа **цифры**, под которыми они указаны:

- 1) выдумка;
- 2) шаблон;
- 3) воображение;
- 4) обычай;
- 5) привычка;
- 6) традиция;
- 7) фантазия;
- 8) трафарет;
- 9) авторитет;
- 10) интуиция

3. Выберите в приведенном списке виды поощрения работодателя работнику за качественный труд и запишите в качестве ответа **цифры**, под которыми они указаны:

1) увольнение;	5) критика выдвинутой инициативы;
2) надбавка;	6) штраф;
3) выговор;	7) премия;
4) повышение в должности;	8) заработная плата

Ответы:

1	2	3
2, 4, 5. 4	1, 3, 7. 3	2, 4, 7. 4

11

1.2. Да» или «нет»? Если Вы согласны с утверждением, напишите «да», если не согласны – «нет». Внесите свои ответы в таблицу. Максимум за задание 8 баллов.

- 1. Экономика – это наука, отражающая взгляды человека на мир и окружающее его общество.
- 2. Потребности бывают подлинными и мнимыми.
- 3. Оценка человеком своих способностей называется самооценкой.
- 4. В сказках и мифах отразились представления людей об окружающем их мире.

6

1. нет 2	2. нет 0	3. да 2	4. да 2
----------	----------	---------	---------

Задание 2. Вставьте вместо пропусков порядковые номера соответствующих слов из предложенного списка. Слова даны в списке в единственном числе, глаголы в начальной форме. Обратите внимание: в списке слов есть и такие, которые в тексте встречаться не должны! Ответ внесите в таблицу. (По 2 балла за каждую верную вставку. Максимум за задание 18 баллов.)

С чего начинается доброта? На этот вопрос существует только один ответ _____ (А) о близких. Если человек не проявляет внимания к близким, а людям старается выглядеть добреньким, такого мы назовём, как минимуму _____ (Б). Как же следует проявлять заботу о близких? Запомни три основных правила.

Первое: сделай доброе _____ (В). Для этого ты должен как можно скорей включиться в дела своей семьи и стараться принести посильную _____ (Г). Нельзя прятаться за чужую спину, даже родительскую. Ничего в доме не делает само собой, всё делается _____ (Д) твоих близких. Помогите им. Сделай доброе дело. Второе: накапливай _____ (Е) добрых дел. Старайся делать сам как можно больше и как можно лучше. Не умеешь — попроси _____ (Ж), научись. И бойся ошибок — умный на ошибках _____ (З). Третье: скажи доброе слово улыбнись. Доброе слово и добрая улыбка приятны всем. Найди для каждого доброе слово, не жалея добрых слов и не стесняйся их сказать — _____ (И) превзойдёт все ожидания.

А	Б	В	Г	Д	Е	Ж	З	И
142	52	102	72	42	120	90	72	112

Список терминов 1. Польза 2. Совет 3. Образование 4. Рука 5. Лицемер 6. Лжец 7. Учитель 8. Основать 9. Опыт 10. Дело 11. Результат 12. Познание 13. школа 14. забота

Задание 3. Решите логические задачки. За правильное решение каждой баллов. Всего 25

3.1. Деревенский дурачок?

Люди, приезжавшие в одну деревушку, часто удивлялись местному чудачку, считая его дурачком. Когда ему предлагали выбор между блестящей 50-центовою монетой и мятой пятидолларовой купюрой, он всегда выбирал монету, хотя она стоит вдесятеро меньше купюры. Почему он никогда не выбирает купюру? Потому, что он был не жадным.

3.2. Форма яйца

Считается, что есть веская причина, по которой у птичьих яиц один конец тупее другого. Что это за причина? Потому, что когда скорлупа формируется, она расширяется сильнее в тупом конце, из-за этого к стенкам куриного яйца.

3.3. Полуночный дождь

Если в 12 часов ночи идет дождь, то можно ли ожидать, что через 72 часа будет солнечная погода? Нет. Потому что через 72 часа будет ночь (12 часов ночи).

Сколько мне лет?

Когда моему отцу был 31 год, мне было 8 лет, а теперь отец старше меня вдвое. Сколько мне лет теперь? 23 года, а папе 46 лет.

5


3.5. Потерянные гайки

Меня колесо своей машины, человек уронил все четыре гайки его крепления в решетку канализационного стока, откуда достать их было невозможно. Он уже решил, что застрял здесь, но проходивший мимо мальчик подсказал ему очень дельную мысль, которая позволила ему поехать дальше. В чем состояла его идея? Он сказал где ближайший магазин закрутить.

0

Задание 4. Назовите права человека и гражданина, которые отражены на представленных ниже картинках. Свои ответы запишите в таблицу. За каждый верный ответ 3 балла. Максимум за задание 12 баллов.


А




Б



В



Г



9

А	3	Б	3	В	3	Г	0
---	---	---	---	---	---	---	---

Право на работу Право на безбедное существование Право на безбедное существование Право на свободу передвижения


Задание 5. Внимательно рассмотрите рисунок, на котором представлено одно из негативных явлений в современном мире. Напишите сочинение-рассуждение, посвящённое этой проблеме. В своём сочинении придерживайтесь следующего плана. Максимум за задание 25 баллов.

5.1. Назовите это негативное явление (2 балла).

5.2. Приведите три примера проявления данной проблемы (6 баллов).

05-12

- Укажите три причины возникновения проблемы (6 баллов).
- 4. Сформулируйте два возможных пути решения данной проблемы (6 баллов).
- 5.5. Как ты лично участвуешь в решении этой проблемы. (5 баллов)



Ответ:

5.1. Это несанкционированная свалка в лесу сделанная людьми. 0

5.2. Первое неблагоприятное отношение людей к природе. Второе неблагоприятное отношение к животным, это лес. Третье выгреб мусорных пакетов непосредственно в лесу. 2

5.3. 0

5.4. Первый путь - бережно относиться к природе. Второй относить мусор на перерабатывающие цеха. 4

5.5. Стараться не мусорить. 5

1	2	3	4	5	итого
17	14	10	9	11	61

Присутствие жюри Ауримо А. П. [подпись]
 Оценка жюри Кобзарева Е. А. [подпись]
 Кобзарева А. Д. [подпись]

ка.