

МУНИЦИПАЛЬНОЕ БЮДЖЕТНОЕ ОБРАЗОВАТЕЛЬНОЕ
УЧРЕЖДЕНИЕ ЛИЦЕЙ № 104 ГОРОДА МИНЕРАЛЬНЫЕ ВОДЫ
ИНН 2030027809 ОГРН 1022001453380
357203, Россия, Ставропольский край,
г. Минеральные Воды, ул. Ленина, 35

07-6

Олимпиадная работа
школьного этапа всероссийской олимпиады школьников

по обществознанию
обучающегося 7 А класса

МБОУ лицей № 104
наименование образовательного учреждения

г. Минеральные Воды
Ландуревой Ольги Дмитриевны
ФИО участника

Педагог-наставник:

Дурина Мариса Робертовна

8 октября 2019 г.





1.	2.	3.	4.	5.	6.	7.	8.	9.	10.
2	4	4	2	2	2	2	3	4	3

1.2. Установите верность или ложность утверждений «да» или «нет». Внесите ответы в таблицу.

- (10 баллов, по 2 балла за каждый правильный ответ)
- а) Каждый человек имеет право на выбор профессии
 - б) Закон допускает труд в ночное время для всех желающих
 - в) Конституцию называют основным законом страны
 - г) Природа и общество неразрывно связаны
 - д) Сознание свойственно и человеку и животному

А	Б	В	Г	Д
ДА	НЕТ	ДА	ДА	НЕТ

Задание 2. Назовите права человека и гражданина, которые отражены на представленных ниже картинках. Свои ответы запишите в таблицу. Максимум за задание 8 баллов.

<p>А</p> 	<p>Б</p> 
<p>В</p> 	<p>Г</p> 

А	Б	В	Г
2 право на труд	2 право на медицинское обслуживание	2 право на обучение	- право на собственность

Задание 3. Решите логические задачи. (5 баллов за каждую задачу. Всего 25 баллов)

3.1. Встретились три подруги – Серова, Краснова и Чернова, одетые в серое, красное и чёрное платья. Девушка в сером сказала Черновой: «Давай поменяемся платьями, чтобы их цвет соответствовал фамилиям!». Платье какого цвета было на каждой из подруг первоначально?

Ответ: Серова - серое платье
 Чернова - красное платье
 Краснова - серое платье

5 07 6.

3.2. Деревенский дурачок?

Люди, приезжавшие в одну деревушку, часто удивлялись местному чудаку, считая его дурачком. Когда ему предлагали выбор между блестящей 50-ти центовой монетой и мятой пятидолларовой купюрой, он всегда выбирал монету, хотя она стоит вдесятеро меньше купюры. Почему он никогда не выбирал купюру?

0

3.3. Форма яйца

Считается, что есть веская причина, по которой у птичьих яиц один конец тупее другого. Что это за причина?

3.4. Сколько мне лет?

Когда моему отцу был 31 год, мне было 8 лет, а теперь отец старше меня вдвое. Сколько мне лет теперь? Мне 23 года

5

3.5. Потерянные гайки

Меняя колесо своей машины, человек уронил все четыре гайки его крепления в решетку канализационного стока, откуда достать их было невозможно. Он уже решил, что застрял здесь, но проходивший мимо мальчик подсказал ему очень дельную мысль, которая позволила ему поехать дальше. В чем состояла его идея?

Идея мальчика состояла в том, чтобы открутить от каждого из оставшихся трех колес по одной гайке и прикрутить их к четвертому колесу. Таким образом на каждом колесе останется по три гайки и человек сможет поехать дальше.

5

Задание 4. Вставьте в предложения пропущенные слова. Ответы внесите в таблицу. (12 баллов за правильный ответ, по 2 балла за каждое правильное слово). Все _____ (А) России имеют равные права и обязанности. Самые важные вопросы государственной жизни могут быть решены путем _____ (Б) всех граждан РФ. В России проживают люди многих _____ (В). _____ (Г) - главный закон страны. Мы, россияне, люди разных национальностей, составляем один _____ (Д). У нас общая судьба, земля. У нас общая _____ (Е).

1. голосования, 2. национальностей, 3. Конституция, 4. Родина, 5. граждане, 6. народ

А	Б	В	Г	Д	Е
5	1	2	3	6	4

12

Задание 5. Рассмотрите картину русского художника А.П. Рябушкина «Семья купца в XVII в.» и ответьте на вопросы:

1. Если бы, мы не знали название этой картины, как бы мы смогли догадаться, что на картине изображена семья? (5 баллов)
 2. Чем отличается семья от других малых групп? Используя картину и знания, назовите три признака семьи. По 5 баллов за каждый указанный признак..
 3. Какие бывают типы семей? Назовите типы не менее чем по двум классификациям. (5 баллов. Типы семей одной классификации 3 балла)
- Свой ответ напиши. Всего 25 баллов



1. Мы бы смогли догадаться, что на картине изображена семья, потому что раньше семьи изображались именно в таком порядке: в центре глава семьи, отец, рядом с ним его жена и по краям дети. Так же можно догадаться по другим признакам. Например: лица обоих супругов похожи на лица матери. Это говорит о том, что эти люди родные.

А. Семья - это самая сплоченная группа из всех других малых групп, потому что в семье все люди дорожат друг-другом.

$$22 + 6 + 15 + 12 + 10 = 65$$

Председатель Елена ПР
Члены жюри Кобзарева ЕА
Бондарева ВД