

Муниципальное бюджетное общеобразовательное учреждение лицей №104 г. Минеральные Воды  
ИНН 2630027809 ОГРН 1022607453060  
357203, Россия, Ставропольский край,  
г. Минеральные Воды, ул. Ленина, 80

07-16

Олимпиадная работа  
школьного этапа всероссийской олимпиады школьников

по обществознанию  
обучающегося 7 Б класса

МБОУ лицей №104 г. Минеральные Воды  
наименование образовательного учреждения

Малыцовой  
Аины Сергеевны  
ФИО участника

Педагог-наставник: Бондаренкова  
Валентина Даниловна

8 октября 2019 г.

|    |    |     |     |    |    |     |    |    |     |
|----|----|-----|-----|----|----|-----|----|----|-----|
| 1. | 2. | 3.  | 4.  | 5. | 6. | 7.  | 8. | 9. | 10. |
| 2  | 1  | 4 ✓ | 4 ✓ | 2  | 2  | 4 ✓ | 1  | 1  | 3   |





1.2. Установите верность или ложность утверждений «да» или «нет». Внесите ответы в таблицу.

(10 баллов, по 2 балла за каждый правильный ответ)

- а) Каждый человек имеет право на выбор профессии
- б) Закон допускает труд в ночное время для всех желающих
- в) Конституцию называют основным законом страны
- г) Природа и общество неразрывно связаны
- д) Сознание свойственно и человеку и животному

| А  | Б    | В   | Г     | Д   |
|----|------|-----|-------|-----|
| да | да ✓ | да. | нет ✓ | нет |

Задание 2. Назовите права человека и гражданина, которые отражены на представленных ниже картинках. Свои ответы запишите в таблицу. Максимум за задание 8 баллов.

|  |   |
|--|---|
| <p>А</p>   | <p>Б</p>   |
| <p>В</p>  | <p>Г</p>  |

| А                    | Б                | В                | Г               |
|----------------------|------------------|------------------|-----------------|
| право на труд/работу | право на лечение | право на обрезки | право на жилище |

Задание 3. Решите логические задачи. (5 баллов за каждую задачу. Всего 25 баллов)

3.1. Встретились три подруги – Серова, Краснова и Чернова, одетые в серое, красное и чёрное платья. Девушка в сером сказала Черновой: «Давай поменяемся платьями, чтобы их цвет соответствовал фамилиям!». Платье какого цвета было на каждой из подруг первоначально?

Ответ: Серова в сером, Курасова в красном, Чернова в сером.

25 07-16

### 3.2. Деревенский дурачок?

Люди, приезжавшие в одну деревушку, часто удивлялись местному чудаку, считая его дурачком. Когда ему предлагали выбор между блестящей 50-ти центовой монетой и мятой пятидолларовой купюрой, он всегда выбирал монету, хотя она стоит вдесятеро меньше купюры. Почему он никогда не выбирал купюру?

1) 50-ти центовых монет не бывает.  
2) Монета блестящая, в деревне всегда разменять такую валюту поэтому он всегда выбирал монету.

### 3.3. Форма яйца

Считается, что есть веская причина, по которой у птичьих яиц один конец тупее другого. Что это за причина?

Я знаю, что яйцо это овал, овальной формы у него нет углов, концов.

### 3.4. Сколько мне лет?

Когда моему отцу был 31 год, мне было 8 лет, а теперь отец старше меня вдвое. Сколько мне лет теперь?

$31 - 2 = 62 - 23$  на 23 младше сын отца.  
= 9 лет сыну.

### 3.5. Потерянные гайки

Меняя колесо своей машины, человек уронил все четыре гайки его крепления в решетку канализационного стока, откуда достать их было невозможно. Он уже решил, что застрял здесь, но проходивший мимо мальчик подсказал ему очень дельную мысль, которая позволила ему поехать дальше. В чем состояла его идея?

Привинтить колесо на запасные гайки. Или ответить на с (какого-нибудь) (какого-нибудь) колесе на одну гайку.

**Задание 4. Вставьте в предложения пропущенные слова. Ответы внесите в таблицу. (12 баллов за правильный ответ, по 2 балла за каждое правильное слово). Все 5 (А) России имеют равные права и обязанности. Самые важные вопросы государственной жизни могут быть решены путем 1 (Б) всех граждан РФ. В России проживают люди многих 2 (В). 3 (Г)-главный закон страны. Мы, россияне, люди разных национальностей, составляем один 6 (Д). У нас общая судьба, земля. У нас общая 4 (Е).**

**1. голосования, 2. национальностей, 3. Конституция, 4. Родина, 5. граждане, 6. народ**

| А | Б | В | Г | Д | Е |
|---|---|---|---|---|---|
| 5 | 1 | 2 | 3 | 6 | 4 |

125

**Задание 5.** Рассмотрите картину русского художника А.П. Рябушкина «Семья купца в XVII в.» и ответьте на вопросы:

1. Если бы, мы не знали название этой картины, как бы мы смогли догадаться, что на картине изображена семья? (5 баллов)
2. Чем отличается семья от других малых групп? Используя картину и знания, назовите три признака семьи. По 5 баллов за каждый указанный признак..
3. Какие бывают типы семей? Назовите типы не менее чем по двум классификациям. (5 баллов. Типы семей одной классификации 3 балла)  
Свой ответ напиши. Всего 25 баллов



1. Они довольно посетили друг на друга.
2. Отличаются, провинцией, усадьба, члены семьи могут быть посетили друг на друга. (На коленях скорее всего малыши сидят малыши) (Да) у них есть дети, это показатель семьи. Малыши на коленях у матери сидят, себя комфортно. Велики у них хорошие отношения, видно это хорошо.
3. Пятипоколенная, трехпоколенная, неформальная, двухпоколенная, реинтеграция - это вид семьи

1 2 3 4 5  
20 8 7 12 10 5 75

Александр П. Рябушкин

Члены семьи  
Великие В.В.  
Козаревы Е.А.