

07-17

Муниципальное бюджетное общеобразовательное учреждение лицей № 104 г. Минеральные Воды
ИНН 2630027809 ОГРН 1022601423000
357203, Россия, Ставропольский край,
г. Минеральные Воды, ул. Ленина, 26

Олимпиадная работа
школьного этапа всероссийской олимпиады школьников

по обществознанию

обучающегося 7,8 класса

МБОУ лицей № 104 г. Минеральные Воды
наименование образовательного учреждения

Тонамаренко Анастасии Дмитриевны

ФИО участника

Педагог-наставник:

Бондарева Валентина Даниловна.

9 октября 2019 г.

| | | | | | | | | | |
|-----|-------|----|----|-----|-----|----|-----|----|-----|
| 1. | 2. | 3. | 4. | 5. | 6. | 7. | 8. | 9. | 10. |
| 3 ✓ | 3,4 ✓ | 3 | 2 | 1 ✓ | 1 ✓ | 2 | 3 ✓ | 1 | 3 |





1.2. Установите верность или ложность утверждений «да» или «нет». Внесите ответы в таблицу. 100

- (10 баллов, по 2 балла за каждый правильный ответ)
- а) Каждый человек имеет право на выбор профессии
 - б) Закон допускает труд в ночное время для всех желающих
 - в) Конституцию называют основным законом страны
 - г) Природа и общество неразрывно связаны
 - д) Сознание свойственно и человеку и животному

| | | | | |
|----|-----|----|-----|-----|
| А | Б | В | Г | Д |
| Да | Нет | Да | Нет | Нет |

85

Задание 2. Назовите права человека и гражданина, которые отражены на представленных ниже картинках. Свои ответы запишите в таблицу. Максимум за задание 8 баллов.

| | |
|--|---|
| <p>А</p>  | <p>Б</p>  |
| <p>В</p>  | <p>Г</p>  |

| | | | |
|--------------------|-----------------------|----------------|--------|
| А | Б | В | Г |
| На выбор профессии | На бесплатное лечение | На образование | Защиту |

60

Задание 3. Решите логические задачи. (5 баллов за каждую задачу. Всего 25 баллов)

3.1. Встретились три подруги – Серова, Краснова и Чернова, одетые в серое, красное и чёрное платья. Девушка в сером сказала Черновой: «Давай поменяемся платьями, чтобы их цвет соответствовал фамилиям!». Платье какого цвета было на каждой из подруг первоначально?

Ответ: Если у Черновой было свое платье, и она хотела им поменяться, то у Серовой было черное платье, а у Красновой - красное.
Чернова предложила поменяться платьями с Серовой

58 07-17

3.2. Деревенский дурачок?

Люди, приезжавшие в одну деревушку, часто удивлялись местному чудаку, считая его дурачком. Когда ему предлагали выбор между блестящей 50-ти центовой монетой и мятой пятидолларовой купюрой, он всегда выбирал монету, хотя она стоит вдесятеро меньше купюры. Почему он никогда не выбирал купюру?

Бумажную купюру можно смять, погнуть, а вот монета она твердая и реально может долго пролежать, когда вы например копите.

05

3.3. Форма яйца

Считается, что есть веская причина, по которой у птичьих яиц один конец тупее другого. Что это за причина?

В одном изгибе конце расположен голова птенца, а в другом его тело, поэтому, чтобы птенцу было удобно находиться внутри, яйцо происходит в такой форме.

05

3.4. Сколько мне лет?

Когда моему отцу был 31 год, мне было 8 лет, а теперь отец старше меня вдвое.

Сколько мне лет теперь? Отцу сейчас 62 года. $31 - 8 = 23$ года разница, а теперь $62 - 23 = 39$. Ответ: 39 лет мне.

05

3.5. Потерянные гайки

Меняя колесо своей машины, человек уронил все четыре гайки его крепления в решетку канализационного стока, откуда достать их было невозможно. Он уже решил, что застрял здесь, но проходивший мимо мальчик подсказал ему очень дельную мысль, которая позволила ему поехать дальше. В чем состояла его идея?

Мальчик предложил человеку ~~себя~~ возвать эвандатор.

25

Задание 4. Вставьте в предложения пропущенные слова. Ответы внесите в таблицу. (12 баллов за правильный ответ, по 2 балла за каждое правильное слово). Все _____ (А) России имеют равные права и обязанности. Самые важные вопросы государственной жизни могут быть решены путем _____ (Б) всех граждан РФ. В России проживают люди многих _____ (В). _____ (Г) - главный закон страны. Мы, россияне, люди разных национальностей, составляем один _____ (Д). У нас общая судьба, земля. У нас общая _____ (Е).

- голосования, 2. национальностей, 3. Конституция, 4. Родина, 5. граждане, 6. народ

| А | Б | В | Г | Д | Е |
|----------|-------------|-----------------|-------------|-------|--------|
| Граждане | голосования | национальностей | Конституция | Народ | Родина |

125

Задание 5. Рассмотрите картину русского художника А.П. Рябушкина «Семья купца в XVII в.» и ответьте на вопросы:

1. Если бы, мы не знали название этой картины, как бы мы смогли догадаться, что на картине изображена семья? (5 баллов)
 2. Чем отличается семья от других малых групп? Используя картину и знания, назовите три признака семьи. По 5 баллов за каждый указанный признак..
 3. Какие бывают типы семей? Назовите типы не менее чем по двум классификациям. (5 баллов. Типы семей одной классификации 3 балла)
- Свой ответ напиши. Всего 25 баллов



По обычаям в центре картины расположена глава семьи - муж и отец, рядом сидит жена с малышом на руках, по бокам старшие дочери.

1 Семья это ячейка общества.

2 Она имеет право на материнский капитал.

3 Семья включает в себя родственников.

IV Двухпоколенные - бабушка, дедушка, мама, папа и я.

Трёхпоколенная - прабабушка, прадедушка, бабушка, дедушка, мама, папа и я.

200

1 2 3 4 5
18 6 7 12 20 6 35

Президент России П.В. Путин
Член семьи
Бомдариева В.А.
Козарева Е.А.