

МУНИЦИПАЛЬНОЕ БЮДЖЕТНОЕ ОБЩЕОБРАЗОВАТЕЛЬНОЕ
УЧРЕЖДЕНИЕ ЛИЦЕЙ №104 Г. МИНЕРАЛЬНЫЕ ВОДЫ
ИНН 2630027000 ОГРН 1022601453060
357203, Россия, Ставропольский край,
г. Минеральные Воды, ул. Ленина, 36

Т-4

Олимпиадная работа
по технологии

ученицы 6Б класса

Девчуз Юлии Валерьевны

Учитель: Берцова Елена Ивановна.

Председатель: *Е.В.С.*

Члены жюри: *Светлана (Берцова Е.В.)*

[Подпись]
3

19 октября 2018 г.

ПЕРВЫЙ ЭТАП ВСЕРОССИЙСКОЙ ОЛИМПИАДЫ ШКОЛЬНИКОВ
ПО ТЕХНОЛОГИИ (ДЕВОЧКИ)

МИНЕРАЛОВОДСКИЙ ГОРОДСКОЙ ОКРУГ
2018-2019 УЧЕБНЫЙ ГОД

6 КЛАСС

T-Y

1. Обозначьте цифрами последовательность приготовления борща:

- 6 а) заложить картофель, нарезанный брусочками,
1 б) произвести первичную обработку овощей,
4 в) заложить в кипящую, подсоленную воду капусту, нарезанную соломкой,
2 г) потушить свеклу и произвести пассеровку овощей,
7 д) добавить специи,
3 е) определить готовность,
5 ж) заложить тушеную свеклу и пассерованные овощи,
8 з) посолить.

2. Отметьте знаком «+» правильный ответ.

Репчатый лук следует хранить:

- в морозильнике;
 в сухом теплом помещении;
 в прохладном помещении с повышенной влажностью;
 в теплом помещении с повышенной влажностью;
 в сухом прохладном месте.

3. Соотнесите вид крупы и зерновую культуру:

Зерновая культура	Вид крупы
1 а) овес	1) овсяные хлопья «Геркулес»
7 б) кукуруза	2) рисовая
5 в) пшеница	3) пшеничная
8 г) гречиха	4) ячневая
2 д) рис	5) перловая
3 е) просо	6) манная
4 ж) ячмень	7) кукурузная
	8) гречневая

4. Отметьте знаком «+» правильный ответ.

К гигиеническим свойствам тканей не относится:

- теплозащитность
 сминаемость
 гигроскопичность

5. Отметьте знаком + все правильные ответы.

- Направление нити основы можно определить
- по внешнему виду и яркости окраски нитей
 - по кромке ткани
 - по звуку при резком растяжении ткани
 - по структуре ткацкого переплетения
 - по направлению саржевого рубчика

6. Отметьте знаком «+» правильный ответ.

- Длинный желобок машинной иглы служит:
- для заправки верхней нити;
 - для предохранения верхней нити от перетирания;
 - для образования петли.

7. Укажите название мерок для данных обозначений:

- | | |
|-----------|--------------------------|
| 51) Дн; | а) полуобхват бедер; |
| 22) Дн.ч; | б) длина нагрудника; |
| 63) Дст; | в) длина спины до талии; |
| 44) Сб; | г) длина нижней части. |

8. Отметьте знаком «+» правильный ответ.

- Стрелка на листе выкроек означает:
- направление долевой нити;
 - направление поперечной нити.

9. Укажите цифрами в левом столбце правильную последовательность технологических операций при изготовлении фартука:




2	А. Обработать накладные карманы и бретели, срезы фартука
6	Б. Сметать детали фартука
5	В. Подготовить ткань к раскрою
3	Г. Стачать детали фартука
4	Д. Выполнить влажно-тепловую обработку
1	Е. Разложить выкройку фартука на ткани
7	Ж. Раскроить ткань

10. Проставьте цифры, характеризующие правильную последовательность операций обработки юбки – брюк после примерки.

- а) отутюжить юбку – брюки на рукавной колодке; пришить пуговицу;
- б) отпороть пояс; удалить нити заметывания низа;
- в) обработать и присоединить пояс с прокладкой; сделать петлю;
- г) стачать все детали и шаговые швы;

- д) обработать низ;
 - е) удалить нитки сметывания, подровнять и обметать срезы; швы разутюжить или заутюжить;
 - ж) настрочить встречные складки от талии до бедер;
 - з) заметать края разреза для застежки, приутюжить;
 - и) обработать застежку – молнию;
 - к) разутюжить шаговые швы на рукавной колодке;
 - л) разутюжить средний шов;
 - м) сметать линию сидения (средних швов), совмещая шаговые швы; стачать двойной машинной строчкой (вторая на 0,1 см. ближе к срезам)
- В процессе стачивания среднего шва ткань слегка растягивать.

11. Установите соответствие между названием ручных стежков и их изображением:

1. Вперед иголку	б	а	
2. Стебельчатый	а	б	
3. Тамбурный	в	в	

12. Отметьте знаком «+» правильные ответы.

Для вязания используют:

- шерстяную пряжу
- хлопчатобумажные нитки
- натуральный шёлк
- хлопчатобумажную пряжу
- капроновые нити

13. Отметьте знаком «+» все правильные ответы

Рисунок вышивки на ткань переводят с помощью:

- копировальных стежков;
- припороха;
- фломастера;
- копировальной бумаги.

14. Отметьте знаком «+» правильный ответ.

Украшение из ткани в верхней части дверных и оконных проёмов называется

- 1 - - штора
- 2 - - карниз
- 3 - - ламбрекен
- 4 - - занавеска

5 - □ - ширма

105

15. Творческое задание. Вам предложена юбка.


1. Выберите одну из предложенных конструкций юбки, выполните её эскиз, используя разные цвета:

- а) прямая;
- б) клинневая ;
- в) коническая;

2. Опишите и внесите ответы в таблицу:

- а) волокнистому составу;
- б) поддекоративной отделки и фасонным изменениям.

65

Назначение: <i>на прогулку</i>	Эскиз
	
волокнистый состав: <i>Лямок.</i>	
декоративная отделка: <i>рисование на коже.</i>	