

МУНИЦИПАЛЬНОЕ БЮДЖЕТНОЕ ОБЩЕОБРАЗОВАТЕЛЬНОЕ
УЧРЕЖДЕНИЕ №104 Г.МИНЕРАЛЬНЫЕ ВОДЫ
ИНН 2630927809 ОГРН 1022601453060
357203, Россия, Ставропольский край,
г. Минеральные Воды, ул. Ленина, 36.

Г-9

Олимпиадная работа

по технологии

ученицы 6 класса "Г"

Ковалевой Маргариты Александровны.

Учитель: Верхова Елена Ивановна

Председатель: *В.И.*

Ученик жюри: *В.И.* (Верхова Е.И.)

В.И.
3

12 октября 2018г.

ПЕРВЫЙ ЭТАП ВСЕРОССИЙСКОЙ ОЛИМПИАДЫ ШКОЛЬНИКОВ
ПО ТЕХНОЛОГИИ (ДЕВОЧКИ)

МИНЕРАЛОВДСКИЙ ГОРОДСКОЙ ОКРУГ
2018-2019 УЧЕБНЫЙ ГОД

6 КЛАСС

1. Обозначьте цифрами последовательность приготовления борща:

- 6 а) заложить картофель, нарезанный брусочками,
1 б) произвести первичную обработку овощей,
4 в) заложить в кипящую, подсоленную воду капусту, нарезанную соломкой,
2 г) потушить свеклу и произвести пассеровку овощей,
4 д) добавить специи,
3 е) определить готовность,
5 ж) заложить тушеную свеклу и пассерованные овощи,
8 з) посолить.

2. Отметьте знаком «+» правильный ответ.

Репчатый лук следует хранить:

- в морозильнике;
 в сухом теплом помещении;
 в прохладном помещении с повышенной влажностью;
 в теплом помещении с повышенной влажностью;
 в сухом прохладном месте.

3. Соотнесите вид крупы и зерновую культуру:

Зерновая культура	Вид крупы
а) овес	1) овсяные хлопья «Геркулес»
б) кукуруза	2) рисовая
в) пшеница	3) пшенная
г) гречиха	4) ячневая
д) рис	5) перловая
е) просо	6) манная
ж) ячмень	7) кукурузная
	8) гречневая

4. Отметьте знаком «+» правильный ответ.

К гигиеническим свойствам тканей не относится:

- теплозащитность
 сминаемость
 гигроскопичность

5. Отметьте знаком + все правильные ответы.

- Направление нити основы можно определить
- по внешнему виду и яркости окраски нитей
 - по кромке ткани
 - по звуку при резком растяжении ткани
 - по структуре ткацкого переплетения
 - по направлению саржевого рубчика

6. Отметьте знаком «+» правильный ответ.

- Длинный желобок машинной иглы служит:
- для заправки верхней нити;
 - для предохранения верхней нити от перетиранья;
 - для образования петли.

7. Укажите название мерок для данных обозначений:

- | | |
|----------|--------------------------|
| 1) Дн; | а) полуобхват бедер; |
| 2) Дн.ч; | б) длина нагрудника; |
| 3) Дст; | в) длина спины до талии; |
| 4) Сб; | г) длина нижней части. |

8. Отметьте знаком «+» правильный ответ.

- Стрелка на листе выкроек означает:
- направление долевой нити;
 - направление поперечной нити.

9. Укажите цифрами в левом столбце правильную последовательность технологических операций при изготовлении фартука:




А	А. Обработать накладные карманы и бретели, срезы фартука
Б	Б. Сметать детали фартука
В	В. Подготовить ткань к раскрою
Ж	Г. Стачать детали фартука
А	Д. Выполнить влажно-тепловую обработку
Б	Е. Разложить выкройку фартука на ткани
Г	Ж. Раскроить ткань

10. Проставьте цифры, характеризующие правильную последовательность операций обработки юбки – брюк после примерки.

- а) отутюжить юбку – брюки на рукавной колодке; пришить пуговицу;
- б) отпороть пояс; удалить нити заметывания низа;
- в) обработать и присоединить пояс с прокладкой; сделать петлю;
- г) стачать все детали и шаговые швы;

- д) обработать низ;
- е) удалить нитки сметывания, подровнять и обметать срезы; швы разутюжить или заутюжить;
- ж) настрочить встречные складки от талии до бедер;
- з) заметать края разреза для застежки, приутюжить;
- и) обработать застежку – молнию;
- к) разутюжить шаговые швы на рукавной колодке;
- л) разутюжить средний шов;
- м) сметать линию сидения (средних швов), совмещая шаговые швы; стачать двойной машинной строчкой (вторая на 0,1 см. ближе к срезам) В процессе стачивания среднего шва ткань слегка растягивать.

11. Установите соответствие между названием ручных стежков и их изображением:

1. Вперед иголку δ	а	
2. Стебельчатый α	б	
3. Тамбурный β	в	

12. Отметьте знаком «+» правильные ответы.

Для вязания используют:

- шерстяную пряжу
- хлопчатобумажные нитки
- натуральный шёлк
- хлопчатобумажную пряжу
- капроновые нити

13. Отметьте знаком «+» все правильные ответы

Рисунок вышивки на ткань переводят с помощью:

- копировальных стежков;
- припороха;
- фломастера;
- копировальной бумаги.

14. Отметьте знаком «+» правильный ответ.

Украшение из ткани в верхней части дверных и оконных проёмов называется

- 1 - - штора
- 2 - - карниз
- 3 - - ламбрекен
- 4 - - занавеска

5 - □ - ширма

105

15. Творческое задание. Вам предложена юбка.


1. Выберите одну из предложенных конструкций юбки, выполните её эскиз, используя разные цвета:

- а) прямая;
- б) клиньевая;
- в) коническая;

2. Опишите и внесите ответы в таблицу:

- а) волокнистому составу;
- б) поддекоративной отделки и фасонным изменениям.

58

Назначение: <i>на работу</i>	Эскиз
	
волокнистый состав: <i>хлопок бумажная - ж/б.</i>	
декоративная отделка: <i>серый поясик на юбке</i>	