

58. Уст 8-4

МУНИЦИПАЛЬНОЕ БЮДЖЕТНОЕ ОБЩЕОБРАЗОВАТЕЛЬНОЕ  
УЧРЕЖДЕНИЕ ЛИЦЕЙ №104 г. МИНЕРАЛЬНЫЕ ВОДЫ  
ИНН 2630027809 ОГРН 1022601483060  
357203, Россия, Ставропольский край,  
г. Минеральные Воды, ул. Ленина, 36

**Олимпиадная работа**  
**школьного этапа всероссийской олимпиады школьников**

по Истории  
обучающегося 8Т класса

МБОУ лицей №104  
наименование образовательного учреждения

г. Минеральные Воды  
Коричная Ева  
ФИО участника

Педагог-наставник: Бондарева  
Валентина Денисовна

« 1 » октября 2020 г.

# ВСЕРОССИЙСКАЯ ОЛИМПИАДА ШКОЛЬНИКОВ ПО ИСТОРИИ.

## ШКОЛЬНЫЙ ЭТАП. 8 КЛАСС.

2020-2021 учебный год

ВРЕМЯ НА ВЫПОЛНЕНИЕ ЗАДАНИЙ – 60 МИНУТ.

ОБЩАЯ СУММА БАЛЛОВ – 100

№ задания	1	2	3	4	5	Всего
Макс. баллы	29	15	15	25	16	100
По итогам проверки	12	13	6	15	12	58.

**Задание 1. Выполните задания (максимальный балл 29) На выполнение задания отводится до 17 минут.**

**1.1. Выберите один из предложенных вариантов в тесте. Ответы занесите в таблицу. (8 баллов)**

**1. В каком году был принят документ, отрывок из которого приводится ниже?**

«Лето 7006, месяца семптеврия, уложил князь великий Иван Васильевич всея Руси, с детми и с бояры, о суде, как судити боярам и околничим...»

57. «О христанском отказе. А христаном отказыватися из волости, ис села в село, один срок в году за неделю до Юрьева дни осеннего и неделю после Юрьева дни осеннего...»

- 1) 1497 г. 2) 1525 г. 3) 1550 г. 4) 1581 г.

**2. Как называется уния, отрывок из которой представлен ниже?**

«Объявляем этим нашим актом всем людям настоящего и будущего времени, до которых только он дойдёт, что, имея постоянно в виду долг наш перед отечеством Великим княжеством Литовским, которого честь, достояние, общую пользу, а более всего внутреннюю и внешнюю безопасность мы обязаны упрочить и обеспечить... для обоих народов весьма важные союз и единение, учиненные некогда предками нашими с тогдашними гражданами всей короны Польской... в унии скрепить...»

- 1) Кревская 2) Городецкая 3) Люблинская 4) Брестская

**3. В каком году происходили во Франции события, описанные российским резидентом в этой стране?**

«Сумасбродные французы, недовольствуясь созывом Генеральных Штатов, выказали открытое неповиновение своему законному помазаннику Божьему...»

- 1) 1648 г. 2) 1785 г. 3) 1789 г. 4) 1793 г.

**4) На картине С. Иванова мы видим ханского представителя, собирающего дань. Как называли на Руси этих должностных лиц?**

- 1. Темники 3. Басмачи;





2. Баскаки 4. Визири

1	2	3	4
<del>3</del>	<del>2</del>	<del>3</del>	2

1.2. По какому принципу образованы ряды? Дайте краткий ответ. (Максимальный балл - 9)

1. Габсбурги, Тюдоры, Бурбоны

Династии

2. Иван Заруцкий, Козьма Минин, Прокопий Ляпунов, Дмитрий Пожарский.

Руководители Второго ополчения

3. Поземельная подать, подушная подать, подворная подать.

Привилегии, жалованья

1.3. Что или кто является лишним в ряду? Лишнее слово подчеркните и объясните свой выбор (Максимальный балл - 12)

1. Лютеране, гугеноты, кальвинисты, католики, пуритане

Все перечисленные кроме католиков это протестанты или веры

2. 1584 г., 1589 г., 1598 г., 1605 г., 1606 г., 1610 г.-





Правление Бориса Годунова

3. Свод Законов Российской Империи, Соборное Уложение, Судебник, Изборник.

Земельные акты России, которые были введены в силу при Иване IV Грозном

Задание 2. выполните задания к иллюстрациям. Максимальное количество 15 баллов На выполнение задания отводится 13 минут.

2.1. Определите, в какой период русской истории были построены памятники архитектуры: А) Киевской Руси Б) Руси Удельной (раздробленной). Напишите соответствующую букву под памятником (по 1 баллу за каждый верный ответ. Всего 4)

1.	2.	3.	4.
			
<u>А</u>	<u>Б</u>	<u>Б</u>	<u>А</u>

2.2. Выберите ОДИН любой из представленных памятников и напишите небольшой РАСКАЗ о нем. В вашем рассказе должны быть название памятника, дата (год, век), связанная с ним (необязательно год создания), имя исторической личности и историческое событие. За каждое выполненное условие 2 балла. Рассказ должен содержать не менее четырех логически связанных предложений, за это 3 балла. Всего 11.

Церковь Покрова на-Вери - 12 Церковь была основана в 12 веке. Она была основана Боголюбскими в честь разгрома у него сына. Эта очень красивая церковь







4.1. Какой период Российской истории отражает материал карты? (5 баллов)

период Смутного времени

4.2. Перечислите военные действия, нанесённые на карту. (10 баллов)

Осада Касова и Коварова, осада Пятикото-Сергиева монастыря

4.3. Назовите исторических лиц, связанных с военными действиями, обозначенными на карте (до 10 баллов. По 2 балла за каждое названное имя).

Исмаилов, Кузьма Минин, Дмитрий Покровский, Мамутов, Зарудский

**Задание 5. Прочитайте текст и ответьте на вопросы. За правильный и полный ответ на каждый вопрос 4 балла. Всего 16 баллов. На выполнение задания отводится 10 минут.**

К началу второй половины XVI века на Северном Кавказе уже существовало несколько вольных казачьих поселений, из которых наиболее ранними по своему происхождению были рязанские и донские казаки, объединённые в единое казачье сообщество и получившие своё название (1)... казаков.

На гребнях Сунженского хребта эти казаки оставались до начала 80-х годов XVII века, затем в целях безопасности они переселились на правый берег Терека у мыса, образуемого слиянием Терека с Сунжей, где образовалась 80 километровая казачья линия. Места, облюбованные казаками, отвечали хозяйственной и стратегической целесообразности. Течение Терека обеспечивало сообщение с Каспийским морем и Волгой. Именно здесь проходили караванная дорога из Персии в Москву и путь в Грузию. Эти места привлекали значительными естественными богатствами: в лесах водились звери и птицы, в реках – много рыбы. Под строительство станиц здесь было много пустующей, свободной земли. С середины XVI века в дельте нижнего течения Терека возникает ещё одно северокавказское казачество – (2)... В отличие от (1)... (2)... казаки формировались из числа беглых, разрозненных групп русских людей и горских народов. (Автор Бурда Эдуард – российский историк, публицист, писатель и общественный деятель, кандидат исторических наук)

1) Какие два казачьих сообщества, указанные в тексте цифрами 1 и 2, сформировались на Северном Кавказе? 1 Донские,

2 Терские казаки.

2) О какой особенности формирования северокавказского казачества говорит автор текста? Формировались из числа беглых, разрозненных людей

3) Привлекая знания и текст, назовите традиционные занятия казаков.

Охота, собирательство, стрельба из лука

4) Почему Иван IV благосклонно принял казачье посольство и отдал им «вольность Терек Горынович»? Какую роль играли казаки на Северном Кавказе? Они защищали границы России

Продсудатель Игорь Владимирович

Члены жюри Вираева В.В.

Кабачева Е.А. жюри