

57

МУНИЦИПАЛЬНОЕ БЮДЖЕТНОЕ ОБЩЕОБРАЗОВАТЕЛЬНОЕ
УЧРЕЖДЕНИЕ ЛИЦЕЙ № 104 Г. МИНЕРАЛЬНЫЕ ВОДЫ
ИНН 2630027809 ОГРН 1022601483060
357203, Россия, Ставропольский край,
г. Минеральные Воды, ул. Ленина, 35

Олимпиадная работа
школьного этапа всероссийской олимпиады школьников

по истории

обучающегося 8 „В“ класса

МБОУ

лицей №104

наименование образовательного учреждения

Страхова Анастасия Игоревна

ФИО участника

Педагог-наставник:

Дирина Нариса
Робертовна

« 1 » октября 2020 г.

ВСЕРОССИЙСКАЯ ОЛИМПИАДА ШКОЛЬНИКОВ ПО ИСТОРИИ.

ШКОЛЬНЫЙ ЭТАП. 8 КЛАСС.

2020-2021 учебный год

ВРЕМЯ НА ВЫПОЛНЕНИЕ ЗАДАНИЙ – 60 МИНУТ.

ОБЩАЯ СУММА БАЛЛОВ – 100

№ задания	1	2	3	4	5	Всего
Макс. баллы	29	15	15	25	16	100
По итогам проверки	19	13	9	0	16	57

Задание 1. Выполните задания (максимальный балл 29) На выполнение задания отводится до 17 минут.

1.1. Выберите один из предложенных вариантов в тесте. Ответы занесите в таблицу. (8 баллов)

1. В каком году был принят документ, отрывок из которого приводится ниже?

«Лето 7006, месяца семптеврия, уложил князь великий Иван Васильевич всея Руси, с детьми и с бояры, о суде, как судити боярам и околничим...

57. «О христанском отказе. А христаном отказыватися из волости, ис села в село, один срок в году за неделю до Юрьева дни осеннего и неделю после Юрьева дни осеннего...»

1) 1497 г. 2) 1525 г. 3) 1550 г. 4) 1581 г.

2. Как называется уния, отрывок из которой представлен ниже?

«Объявляем этим нашим актом всем людям настоящего и будущего времени, до которых только он дойдёт, что, имея постоянно в виду долг наш перед отечеством Великим княжеством Литовским, которого честь, достояние, общую пользу, а более всего внутреннюю и внешнюю безопасность мы обязаны упрочить и обеспечить... для обоих народов весьма важные союз и единение, учиненные некогда предками нашими с тогдашними гражданами всей короны Польской... в унии скрепить...»

1) Кревская 2) Городецкая 3) Люблинская 4) Брестская

3. В каком году происходили во Франции события, описанные российским резидентом в этой стране?

«Сумасбродные французы, недовольствуясь созывом Генеральных Штатов, выказали открытое неповиновение своему законному помазаннику Божьему...»

1) 1648 г. 2) 1785 г. 3) 1789 г. 4) 1793 г.

4) На картине С. Иванова мы видим ханского представителя, собирающего дань. Как называли на Руси этих должностных лиц?

1. Темники 3. Басмачи;



2 Баскаки 4. Визири

1	2	3	4
4	4	2	2

1.2. По какому принципу образованы ряды? Дайте краткий ответ. (Максимальный балл - 9)

1. Габсбурги, Тюдоры, Бурбоны

династии (во Франции)

2. Иван Заруцкий, Козьма Минин, Прокопий Ляпунов, Дмитрий Пожарский.

Главководящие русскими народными ополчением.

3. Поземельная подать, подушная подать, подворная подать.

плата, сбор за средств.

1.3. Что или кто является лишним в ряду? Лишнее слово подчеркните и объясните свой выбор (Максимальный балл - 12)

1. Лютеране, гугеноты, кальвинисты, католики, пуритане

Лишнее слово - католики, потому что все остальные реформационные протестанские.

2. 1584 г., 1589 г., 1598 г., 1605 г., 1606 г., 1610 г.-





лишнее 1606 г., т.к. в этом году власть в России перешла к боярам

3. Свод Законов Российской Империи, Соборное Уложение, Судебник, Изборник.

Свод Законов Российской Империи лишнее, т.к. эта книга была выпущена намного позже остальных - уже в Российской Империи

Задание 2. выполните задания к иллюстрациям. Максимальное количество 15 баллов На выполнение задания отводится 13 минут.

2.1. Определите, в какой период русской истории были построены памятники архитектуры: А) Киевской Руси Б) Руси Удельной (раздробленной). Напишите соответствующую букву под памятником (по 1 баллу за каждый верный ответ. Всего 4)

1.	2.	3.	4.
			
<u>Б</u>	<u>Б</u>	<u>А</u>	<u>А</u>

2.2. Выберите ОДИН любой из представленных памятников и напишите небольшой РАССКАЗ о нем. В вашем рассказе должны быть название памятника, дата (год, век), связанная с ним (необязательно год создания), имя исторической личности и историческое событие. За каждое выполненное условие 2 балла. Рассказ должен содержать не менее четырех логически связанных предложений, за это 3 балла. Всего 11.

2.

Название этого памятника - Церковь Токрова на Дериш.

С этим памятником связана дата 1210-1215 гг. Так как именно в это время, в этой церкви крестился Александр Невский - будущий великий полководец, прославившийся победой над шведскими войсками на р. Неве. А так же победой над тевтонскими рыцарями на легендарном Чудском озере (1242 г.).

Задание 3. О ком идёт речь в данных отрывках? Ответы запишите в таблице. (Максимальный балл - 15) На выполнение задания отводится 10 минут.

3.1. Тверской купец, путешественник. Совершил «хождение» в Персию, Индию (1468-74). На обратном пути посетил африканский берег (Сомали), Маскат, Турцию. Автор путевых записок «Хождение за три моря».

3.2. Нижегородский посадский человек, с сентября 1611 года - земский староста. Инициатор и один из руководителей Второго ополчения 1611-12 гг. В сражениях за Москву против польского гарнизона проявил личную храбрость. В 1612-13 гг. член земского правительства («Совета всей земли»). В 1613 году вошёл в состав Боярской думы (пожалован в думные дворяне).

3.3. Патриарх Московский и всея Руси в 1652-67 гг. Провёл церковные реформы с целью унификации богослужения и церковных текстов.

3.4. Церковный деятель, идеолог и глава нестяжателей.

3.5. Механик-самоучка. Заведовал механической мастерской Петербургской Академии наук (1769-1801 гг.). Усовершенствовал шлифовку стёкол для оптических приборов. Разработал проект и построил модель одноарочного деревянного моста через реку Нева пролётом 298 м. Создал «зеркальный фонарь» (прототип прожектора), семафорный телеграф, «водоход», машину для добычи соли и другие механизмы.

3.1.	Афанасий Никитин +
3.2.	Василий Иванович Шелайн -
3.3.	Патриарх Никон. +
3.4.	Сергий Радонежский -
3.5.	часовщик Иван... +

Задание 4. Внимательно изучите карту и ответьте на вопросы.

(Максимальный балл - 25). На выполнение задания отводится 10 минут.



4.1. Какой период Российской истории отражает материал карты? (5 баллов)

1240-1242 гг. (13 век). Поход тебтонских розгари на Русь

4.2. Перечислите военные действия, нанесённые на карту. (10 баллов)

Поход тебтонских розгари на Русь; поход Александра Невского - защита земель русски

4.3. Назовите исторических лиц, связанных с военными действиями, обозначенными на карте (до 10 баллов. По 2 балла за каждое названное имя).

Александр Невский - освободивший поход из Финского Новгорода. Главной магистр "Тебтонского" Ордена, министр из тебтонского (каменского) города Дерпт - Герман. во главе тебтонских розгари обшлись из крепости Водборга завоевывать Русь, но потерпели поражение в битве на Чудском озере.

Задание 5. Прочитайте текст и ответьте на вопросы. За правильный и полный ответ на каждый вопрос 4 балла. Всего 16 баллов. На выполнение задания отводится 10 минут.

К началу второй половины XVI века на Северном Кавказе уже существовало несколько вольных казачьих поселений, из которых наиболее ранними по своему происхождению были рязанские и донские казаки, объединенные в единое казачье сообщество и получившие своё название (1)... казаков.

На гребнях Сунженского хребта эти казаки оставались до начала 80-х годов XVII века, затем в целях безопасности они переселились на правый берег Терека у мыса, образуемого слиянием Терека с Сунжей, где образовалась 80 километровая казачья линия. Места, облюбованные казаками, отвечали хозяйственной и стратегической целесообразности. Течение Терека обеспечивало сообщение с Каспийским морем и Волгой. Именно здесь проходили караванная дорога из Персии в Москву и путь в Грузию. Эти места привлекали значительными естественными богатствами: в лесах водились звери и птицы, в реках - много рыбы. Под строительство станиц здесь было много пустующей, свободной земли. С середины XVI века в дельте нижнего течения Терека возникает еще одно северокавказское казачество - (2).... В отличие от (1)...., (2).... казаки формировались из числа беглых, разрозненных групп русских людей и горских народов. (Автор Бурда Эдуард - российский историк, публицист, писатель и общественный деятель, кандидат исторических наук)

1) Какие два казачьих сообщества, указанные в тексте цифрами 1 и 2, сформировались на Северном Кавказе? 1 Терские (терские) линейное, 2 Ясеновские

2) О какой особенности формирования северокавказского казачества говорит автор текста? Вольное стратегическое, экономическое положение.

3) Привлекая знания и текст, назовите традиционные занятия казаков.

Традиционные занятия казаков - военное дело (военной профессии), охота, рыболовство, скотоводство.

4) Почему Иван IV благосклонно принял казачье посольство и отдал им «вольность Терек Горынович»? Какую роль играли казаки на Северном Кавказе? Иван IV благосклонно принял казачье посольство и отдал им «вольность Терек Горынович», потому что казаки составили большую и самую надежную часть его войска, поэтому ему приходилось поддерживать хорошие отношения с вольными «казаками». Казаки сыграли большую роль на Северном Кавказе - защищали границы России от набегов мусульманских племен, участвовали в Кавказской войне, участвовали в походах на Крым.