

Демоверсия промежуточной аттестации по физике 9 класс

Учитель Аванесян Ф.В.

Пояснительная записка по выполнению и оцениванию заданий тестовой работы по физике для учащихся 9 классов

Работа по физике состоит из 19 заданий:

№	Число заданий	Максимальный балл	Тип заданий
1	19	25	Задания с выбором ответа, развернутое решение задания части С

Время выполнения работы – 45 минут

Проверка выполненных работ осуществляется следующим способом:

- варианты ответов, указанные в бланке ответов, проверяют по «ключам»-правильным ответам;

1. каждое правильное выполненное задание А-части оценивается в 1 балл;

- каждое невыполненное задание (не выполнявшееся или выполненное с ошибкой) оценивается в 0 баллов;

- задание считается выполненным, если учащийся указал все правильные варианты ответов;

2. задание В-части оцениваются в 3 балла, если верно указаны все элементы ответа,

-1 балл, если правильно указан хотя бы один элемент ответа,

- 0 баллов, если ответ не содержит элементов правильного ответа.

3. задание части - С оценивается в 3 балла, если приведено полное решение, включающее следующие элементы:

-верно записано краткое условие задачи,

-записаны уравнения и формулы,

-выполнены математические преобразования и расчеты, предоставлен ответ.

задание части - С оценивается в 2 балла,

- если правильно записаны формулы, проведены вычисления, и получен ответ, но допущена ошибка в записи краткого условия или переводе единиц в СИ.

-представлено правильное решение только в общем виде, без каких-либо числовых расчетов.

-записаны уравнения и формулы, применение которых необходимо и достаточно для решения задачи выбранным способом, но в математических преобразованиях допущена ошибка.

задание части - С оценивается в 1 балл,

-записаны и использованы не все исходные формулы, необходимые для решения задачи.

-записаны все исходные формулы, но в одной из них допущена ошибка.

задание части - С оценивается в 0 балл,

-если все случаи решения, которые не соответствуют вышеуказанным критериям выставления оценок в 1,2,3 балла.

Для выставления отметок за тестирование можно воспользоваться таблицей пересчета:

Число заданий в тесте – 19.

Шкала для перевода числа правильных ответов в оценку по пятибалльной шкале

Оценка	«2»	«3»	«4»	«5»
Число правильных ответов	менее 9	9,10,11,12,	13,14,15,	16-19

Максимальное количество баллов, которое может получить ученик за выполнение всей работы — 19 баллов.

ОТВЕТЫ тестовой работы по физике

№ задания	1	2	3	4	5	6	7	8	9	10	11	12	13	14	15	16	B1	B2	C
I-вариант	а	г	а	а	а	б	б	в	а	а	а	в	в	б	в	б	142	412	380В
II-вариант	а	б	в	г	в	б	в	в	в	в	а	б	а	в	б	а	314	413	94,6 м/с

Вариант .

Часть-А

1. Относительно какого тела или частей тела пассажир, сидящий в движущемся вагоне, находится в состоянии покоя?

- А. вагона.
- Б. земли.
- В. колеса вагона.

2. При равноускоренном движении скорость тела за 5 с изменилась от 10 м/с до 25 м/с. Определите ускорение тела.

- А. 4 м/с²;
- Б. 2 м/с²;
- В. -2 м/с²;
- Г. 3 м/с².

3. Дана зависимость координаты от времени при равномерном движении: $x=2+3t$. Чему равны начальная координата и скорость тела?

- А. $x_0=2$, $V=3$;
- Б. $x_0=3$, $V=2$;
- В. $x_0=3$, $V=3$;
- Г. $x_0=2$, $V=2$.

4. Тело движется по окружности. Укажите направление ускорения (рисунок 1).

- А. ускорения – 4;
- Б. ускорения – 1;
- В. ускорения – 2;
- Г. ускорения – 3.

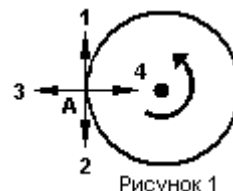


Рисунок 1

5. Под действием силы 10Н тело движется с ускорением 5м/с². Какова масса тела ?

- А. 2кг.
- Б. 0,5 кг.
- В. 50 кг.
- Г. 100кг.

6. Земля притягивает к себе подброшенный мяч силой 3 Н. С какой силой этот мяч притягивает к себе Землю?

- А. 30Н
- Б. 3Н
- В. 0,3Н
- Г. 0Н

7. Какая из приведенных формул выражает второй закон Ньютона?

- А. $F = G \frac{M}{R^2}$;
- Б. $\vec{F} = m \cdot \vec{a}$;
- В. $F = G \frac{m_1 m_2}{R^2}$;
- Г. $F = -kx$.

8. Как направлен импульс силы?

- А. по ускорению.
- Б. по скорости тела.
- В. по силе.
- Г. Среди ответов нет правильного.

9. Тележка массой 2 кг движущаяся со скоростью 3м/с и сталкивается с неподвижной тележкой массой 4 кг и сцепляется с ней. Определите скорость обеих тележек после взаимодействия?

- А. 1 м/с;
- Б. 0,5 м/с;
- В. 3 м/с;
- Г. 1,5 м/с.

10. По графику зависимости координаты колеблющегося тела от времени (см. рисунок 2) определите амплитуду колебаний.

- А. 10 м;
- Б. 6 м;
- В. 4 м;

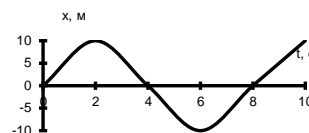


Рисунок 2

11. Камертон излучает звуковую волну длиной 0,5м. Какова частота колебаний камертона? Скорость звука в воздухе 340 м/с.

- А. 680Гц;
- Б. 170Гц;
- В. 17Гц;
- Г. 3400Гц.

12. Силовой характеристикой магнитного поля является:

- А. магнитный поток;
- Б. сила, действующая на проводник с током;
- В. вектор магнитной индукции.

13. Определите частоту электромагнитной волны длиной 3 м.

- А. 10^{-8} Гц;
- Б. 10^{-7} Гц;
- В. 10^8 Гц;
- Г. 10^{-6} Гц.

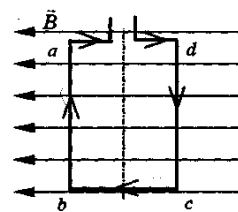
14. Сколько протонов содержит атом углерода $^{12}_6\text{C}$?

- А. 18
- Б. 6
- В. 12

15. Бетта- излучение- это:

- А. поток квантов излучения;
- Б. поток ядер атома гелия
- В. Поток электронов ;

16. Квадратная рамка расположена в однородном магнитном поле, как показано на рисунке. Направление тока в рамке указано стрелками. Как направлена сила, действующая на стороны ab рамки со стороны магнитного поля?



- А. Перпендикулярно плоскости чертежа, от нас
- Б. Перпендикулярно плоскости чертежа, к нам
- В. Вертикально вверх, в плоскости чертежа
- Г. Вертикально вниз, в плоскости чертежа

ЧАСТЬ-В

Инструкция по выполнению заданий №В1-В2: соотнесите написанное в столбцах

1 и 2. Запишите в соответствующие строки бланка ответов последовательность

букв из столбца 2, обозначающих правильные ответы на вопросы из столбца 1. Например:

№ задания	Вариант ответа
В1	243

В1. Установите соответствие между физическими открытиями и учеными

Открытие	Ученый
А) закон о передачи давления жидкостями и газами	1) Паскаль
Б) закон всемирного тяготения	2) Торричелли
В) открытие атмосферного давления	3) Архимед
	4) Ньютон

В2. Установите соответствие между приборами и физическими величинами

Прибор	Физические величины
А) психрометр	1) давление
Б) манометр	2) скорость
В) спидометр	3) сила
	4) влажность воздуха

ЧАСТЬ С:

задание с развернутым решением, умение решить задачу на применение изученных тем, законов, физических величин.

С1. Транспортер равномерно поднимает груз массой 190кг на высоту 9м за 50с. Сила тока в электродвигателе 1,5А. КПД двигателя составляет 60%. Определите напряжение в электрической сети.

